

2015年四川公务员考试行测 真题（上半年）



打开公考通app
进入历年真题查看解析

常识判断

请根据题目要求，在每个选项中选出一个最恰当的答案。

1. “正义不仅要实现，而且要以看得见的方式实现”，这句话体现了程序正义，即裁判结论要得到人们的普遍认可，裁判者必须确保判决符合公正、正义的要求。

下列说法违背了程序正义的是：

- A . 刑事案件的判处要重证据，不轻信口供
 - B . 罚款应当由作出罚款决定的行政机关收缴
 - C . 与案件有利害关系的审判人员，应当回避
 - D . 证人证言必须在法庭上经过询问、质证并查证属实后才能作为定案依据
2. 关于中国历史上的改革和变法，下列说法不正确的是：
- A . 秦穆公任用商鞅实行变法
 - B . 戊戌变法的目标是推行君主立宪制
 - C . 管仲主张通过改革实现齐国的富国强兵
 - D . 王安石变法意在消除冗兵、冗官、冗费的危机
3. 面对我国人多地少、土地后备资源不足的基本国情以及土地资源浪费的严峻形势，“节约集约用地”成为缓解土地供需矛盾的根本出路，是确保经济社会可持续发展的战略抉择。
- ①G市对黄河北岸的连片荒山进行“人工改造”，使其成为适合城市的建设土地
 - ②L市通过土地改革，使城乡建设用地对接，实现农村建设用地入市流转和使用
 - ③M市在多地进行了“三旧”改造试点，对以前的旧村庄、旧厂房、低效利用的城镇土地进行整理开发，盘活再利用
 - ④某开发区的工业用地综合容积率达到1.4以上，远超国内平均水平

问以上符合“节约集约土地”的是：

- A . ①②
 - B . ②③
 - C . ③④
 - D . ①④
4. 京剧是我国的国粹，下列关于京剧的说法正确的是：
- A . 青衣属于京剧行当中的“净”
 - B . 京剧起源于山西、河北一带
 - C . 常香玉是京剧的四大名旦之一
 - D . 《贵妃醉酒》是梅兰芳的代表剧目
5. 下列革命根据地和主要创立者对应错误的是：

- A . 海陆丰根据地——澎湃
 B . 湘鄂西根据地——方志敏
 C . 左右江根据地——邓小平、张云逸
 D . 陕甘边根据地——刘志丹、习仲勋
6. 下列湖泊及其成因对应错误的是：
- A . 云南滇池——构造湖
 B . 新疆天池——冰川湖
 C . 杭州西湖——河成湖
 D . 敦煌月牙湖——风成湖
7. 下列选项中成语与所涉人物对应不正确的是：
- A . 图穷匕见——荆轲
 B . 高山流水——伯牙
 C . 破釜沉舟——项羽
 D . 投笔从戎——岳飞
8. 下列宗教与其经典对应不正确的是：
- A . 基督教——《圣经》
 B . 道教——《黄庭经》
 C . 佛教——《南华真经》
 D . 伊斯兰教——《古兰经》
9. 从科学认识发展的历程来看，“万有引力定律”的发现经历了三个过程：
- ①牛顿对万有引力的证明；
 ②哥白尼提出“日心说”；
 ③开普勒发现行星运动定律。
- 这三个过程按时间先后排序正确的是：
- A . ①②③
 B . ②③①
 C . ③②①
 D . ②①③
10. 病虫害一直以来都是森林最危险的敌人之一，每年在中国造成的直接经济损失达到数十亿元，对生态环境的破坏更是难以估量。
- 科学家发现，经常暴发病虫害的森林大多是一些：
- A . 阴生树种为主的次生林
 B . 阳生树种为主的次生林

- C . 种群简单、树种单一的人工林
D . 种群复杂、种类繁多的自然林
11. 关于板块构造学说，下列说法错误的是：
- A . 六大板块是对地球表面陆地板块部分的划分
B . 建立在大陆漂移和海底扩张学说的基础上
C . 喜马拉雅是由两大板块碰撞挤压形成的
D . 火山、地震等地质灾害主要是发生在板块边缘
12. 关于我国地理，下列表述正确的是：
- A . 泰山、华山、恒山、衡山和庐山被称为“五岳”
B . 南海有东沙、西沙、中沙、南沙四个群岛
C . 西藏自治区是我国面积最大的省级行政区
D . 华北平原是我国面积最大的平原
13. 海洋动物科学考察的结果显示，近十年来，许多海洋“有壳类”动物，如贝类、螺类和虾蟹类等，有外壳变薄、变软的趋势，产生这种现象的主要原因是：
- A . 海洋“有壳类”动物面临食物短缺的困境，经常出现营养不良
B . 外壳轻便的海洋动物更易于游动、捕食和躲避天敌
C . 海水升温导致海洋动物的生长成熟周期缩短
D . 二氧化碳排放过多导致海水酸化
14. 关于计算机，下列说法不正确的是：
- A . 平板电脑属于小型计算机
B . 计算机断电后内存中的信息会丢失
C . 计算机的性能并非完全依靠于CPU
D . 机器语言可以被计算机硬件直接执行
15. 下列说法不正确的是：
- A . 眨眼可以湿润眼球，正常人平均每分钟要眨眼十几次
B . 小孩多理发能有效促进头发长得更快、更密、更粗壮
C . 当我们停止运动后，肌肉会变软，但不会变成脂肪
D . 眼泪中溶有许多不同的盐，所以是咸的

言语理解与表达

请根据题目要求，在每个选项中选出一个最恰当的答案。

16. 防范理财“陷阱”，不仅是投资者个人的大事，也应当成为金融机构_____的职责。既是对投资者负责，也是_____金融机构自身品牌和形象的需要。

依次填入画横线部分最恰当的一项是：

- A . 必不可少 提高
- B . 不容置疑 塑造
- C . 不可推卸 提升
- D . 当仁不让 打造

17. “意外惊喜”不是游客在朝鲜可以经常遇到的东西，因为导游会_____地规划你的行程，通常不惜绕远路也要避免你接触普通朝鲜民众。可喜的是，一些非政府组织正在_____打破这层厚重面纱。

依次填入画横线部分最恰当的一项是：

- A . 周密 企图
- B . 谨慎 试图
- C . 严密 努力
- D . 审慎 考虑

18. 阿伦特指出，歧视是一项不可分割的政治权利，实际且正当的目标不是完全_____歧视，而是控制在社会领域。如今的时代与阿伦特发布这些论述的时代已经_____，种族歧视已绝对成为“政治不正确”。

依次填入画横线部分最恰当的一项是：

- A . 消灭 天差地别
- B . 解除 泾渭分明
- C . 消除 截然不同
- D . 破除 相去甚远

19. 尼采把母鸡下蛋的啼叫和诗人的歌唱相提并论，说都是“痛苦使然”。这个家常而_____的比拟，也恰恰符合中国文艺传统里一个_____的意见：苦痛比快乐更能产生诗歌，好诗主要是不愉快、烦恼或“穷愁”的表现和发泄。在中国古代，这个意见不但是诗文理论里的常谈，而且成为写作实践里的套路。

依次填入画横线部分最恰当的一项是：

- A . 形象 主流
- B . 通俗 主观
- C . 尖刻 偏执
- D . 生动 流行

20. 不充分的发展与发展带来的副作用，就这样在同一片土地上同时存在。这是中国的困境，也几乎是所有发展中国家共有的_____。就像每个月挣100块钱的人却不得不吃10块一斤的有机大米，其结果必然是饥饿。环保成本的高昂，激化了发达国家与发展中国家的冲突与矛盾，也成为许多地区在生态环境方面寅吃卯粮甚至_____的现实背景。

依次填入画横线处最恰当的一项是：

- A . 尴尬 饮鸩止渴

- B . 际遇 杀鸡取卵
- C . 难题 涸泽而渔
- D . 挑战 饥不择食

21. 怎样的事物才能真正地永存？阿房宫和华清池都已片瓦不留，李杜的名句和老庄的格言却一字不误地_____在每个华人的心里。世上延绵最久的还是非物质——思想与精神。能够_____地记忆思想的只有文字。所以说，文字是我们的生命。

依次填入画横线部分最恰当的一项是：

- A . 保存 永久
- B . 铭刻 永恒
- C . 保留 明确
- D . 镌刻 准确

22. 新技术和新媒体的出现，使人的阅读内容、阅读媒介、阅读习惯发生了变化，呈现多元化、数字化、个性化的特点，读者被多样化地细分，“界面”阅读受到年轻人的_____。随便利而来的是娱乐化的泛滥，这是一个泛娱乐化的时代，一切文化都心甘情愿地成为娱乐的_____，以分得一杯娱乐的残汁，而思考愈发远遁。

依次填入画横线部分最恰当的一项是：

- A . 追捧 附庸
- B . 认可 陪衬
- C . 青睐 注脚
- D . 欢迎 随从

23. 在人类历史的进程中，充满着错综复杂的矛盾，理想的_____与搏斗，社会的_____与变革，历史的_____与前进，绘制出人类自己创造自己、自己发展自己的扑朔迷离、色彩斑斓的画卷。

依次填入画横线部分最恰当的一项是：

- A . 摩擦 发展 曲折
- B . 碰撞 平稳 反复
- C . 冲突 动荡 迂回
- D . 对抗 挑战 起伏

24. 世界上有一种人，他们觉得看书的目的，并不是为了写批评或介绍。他们_____地浏览，每到有什么意见，就随手在书边的空白上注几个字，写一个问号或感叹号。这种_____的随感并非他们对于整部书的结论，因为是随时批识，也许前后矛盾，说话过火，他们也懒得去理会，_____是消遣。

依次填入画横线部分最恰当的一项是：

- A . 不慌不忙 零星 反正
- B . 漫无目的 零散 毕竟

- C . 随心所欲 凌乱 本来
- D . 慢条斯理 零碎 无非

25. 我们的文化出口从电影扩展到电视剧，实际上是从“中国印象”转变为“中国故事”。电影是短诗，往往_____；电视剧是长篇，能翔实而真切地表现生活。电视剧能在“细无声”处沁润人心，日日与剧相伴，海外观众会在_____间把剧作带进生活，又在生活中_____剧作。

依次填入画横线部分最恰当的一项是：

- A . 轻描淡写 不知不觉 复制
- B . 浮光掠影 潜移默化 认同
- C . 意犹未尽 耳濡目染 实现
- D . 囫囵吞枣 天长日久 模仿

26. 微电网是包含本地化半自主运行的电源、负荷和电热储能设施的集群。相对于大电网，它自成一体，单独控制，可以与大电网连接，并网运行，也可以断开连接，以“孤岛模式”自行运行。微电网作为具有向参与者和传统电网提供双向效益的特点，体现了分布式电力系统的发展方向，也为电网的发展开辟了一条崭新路径。

下列说法与原文相符的是：

- A . 微电网是以“孤岛模式”运行的本地化电网
- B . 微电网是与传统电网并网运行的集群
- C . 微电网的出现分散了传统电网的效益
- D . 大电网可能因与微电网并行而受益

27. 大唐帝国的开放品格和强盛国力，对周边国家产生了强大影响。作为唐朝手工业产品的各种生活用品和工艺品，对海外诸国都有着磁石般的吸引力。域外对从唐朝舶来的丝绸、瓷器等物品的追逐，就好比时下潮人对苹果手机和iPad的垂青一样，唐三彩也裹挟在这种洪流中漂洋过海，生根发芽。

这段文字接下来最有可能论述的是：

- A . 唐朝对周边国家的巨大影响力
- B . 域外崇尚唐朝物品的各种表现
- C . 唐朝货品的运输路径和方式
- D . 唐三彩在域外的流传和影响

28. 中华文化的重构是一项复杂的系统工程，民族传统文化的自觉传承无疑是重构中华文化的基础。虽然儒学在大部分历史时期都受到了统治者的倚重与褒扬，并成为两千年来显学，然而中国传统文化的多元结构是多元的，先秦诸子共同创造了中华文化的基础，历朝历代卓有成就的学者也大都精通诸子百家。时至今日，我们断不可画地为牢，仅仅弘扬儒学一家，却抛弃了更为丰富多元的百家之学。

这段文字意在说明：

- A . 中国传统文化以儒学为主要代表

- B. 重构中华文化应注重传承百家之学
- C. 中华文化重构是民族传统的自觉传承
- D. 结构多元化是中国传统文化的一大特色

29. 在充满着复杂流动性的转型中国，小说家对时代的整体性把握将越来越不可能，任何想从整体上对时代命名的企图和冲动将不得不最终沦为可笑的堂·吉珂德。但是这也给写作提供了一个全新的思路，既然把握大的时代已经不可能，那么就可以仔细打量那些被大时代所遮蔽的现代人生活中的小，让文学真正回到它的本源——文学是人学，文学应关注个体在此岸世界的存在，关注那些与个体生命存在有关的尊严、自由及其异化问题，关注与真诚、美好、焦虑、敬畏等与文学和人有关的基本问题。

这段文字意在说明文学创作：

- A. 思路应从整体转为个体
- B. 环境发生了巨大变化
- C. 本源与个体生命有关
- D. 题材应趋向多元化

30. 树可长至参天凌云却依然青葱碧绿，靠的是木质部的导管将根部吸收的水分一路运输到树梢。根据最新的研究结果，植物学家发出警告，气候变化所导致的部分地区干旱化除了会威胁地下水的供应，还会损害木质部运输水分的能力，从而令森林处于危险状态。研究者表示，在干旱条件下，树木会极力地从地下吸取水分，而在此过程中，有太多气泡会被吸入木质部。当这些气泡在导管中堵塞，便会阻断水流供应，令树木缺水而死。

根据这段文字，最新的研究结果是：

- A. 树木木质部越粗越有利于水分供应
- B. 极端天气会破坏树木木质部的生物结构
- C. 湿润的气候条件更有利于参天大树的生长
- D. 导管中大量气泡的存在会阻断树木水分的供应

31. 学术著述必须得有注释，而注释也是力求克服主观性，努力追求学术见解的公允性、合理性、可被接受性的重要途径之一，其本身也是正文论证部分所展开的学术对话的附随性表现。但有必要认识到的是，注释的规范要求不是独立的，也不仅仅只是一套技术，而是与学术论证的规范要求相一致。

这段文字意在强调：

- A. 学术论著要体现出客观性
- B. 学术论著注释要克服主观性
- C. 论著注释必须符合学术规范
- D. 学术论著正文与注释同等重要

32. 历史的经验告诉我们穷则思变，这里的穷就是人们生活饥寒交迫，艰难困苦，就是民生问题没有保障，没有改善。历史上的改朝换代从根本上说都是人民群众为保障和改善民生而奋争的结果。90多年来，无

论是新民主主义革命的胜利，还是社会主义革命的胜利：不论是社会主义建设取得的成就，还是改革开放取得的成功，都是我们党员团结和依靠人民群众而取得的，都是因为人民群众相信只有跟党走，才能够使他们生活得更好，才支持我们党的领导，因此，_____。

填入横线处最恰当的一项是：

- A. 维护人民群众根本利益，改善群众的生活条件是我们党开展一切工作的根本目的
- B. 密切联系群众，解决民生问题是我们加强社会建设各项工作的出发点和落脚点
- C. 解决群众的生产生活困难，走共同富裕的道路是我们党重视民生的充分体现
- D. 不断解放和发展社会生产力，保持党同人民群众的血肉联系是我们党前进的重要法宝

33. 失去对自然声音感悟的人是最可悲的，当有人说“风景美得像一幅画”时，境界便低了，因为画是静的，自然的风景是活的、动的；而除了目视，自然还提供了各种声音，这种双重的组合才使自然超拔出人所能创造的境界。世上有无数艺术家，全是从自然中吸取灵感，但再好的艺术家，总无法完全捕捉自然的魂魄，因为自然是有声音有画面的，还是活的，时刻都在变化的。

这段文字意在说明

- A. 欣赏自然需要视觉、听觉的全方位体验
- B. 大自然为艺术家提供了取之不尽的材料
- C. 自然风景超出了人所能创造的境界
- D. 取法自然才能创造出杰出的作品

34. 婚姻，就是为了和一个人相濡以沫，共度今生，任何以钱财为目的的爱情和婚姻，都是不正确的。诚然，爱情也是要有块地方来承载的，而婚姻显然也要有个房子来遮风挡雨，尤其是作为家庭最大财富的房子，还在不断增值的情况下。但是，现在不少人总是抱着某种目的去找对象，而忽视了感情本身。毕竟，婚姻的目的不是为了结束单身生活，而是为了创造一个属于自己的家庭，享受承担责任、被人需要的快乐。

下列最适合做这段文字标题的是：

- A. 蜗居年代：寻找婚姻的避风港
- B. 裸婚时代：我们拿什么去结婚
- C. 悲剧：今天结婚，明天就离婚
- D. 婚姻：算房产账，更算感情账

35. 提到保健品，首要问题不是为什么要买，而是为什么不买。在每个日渐老去的人身上，都潜伏着若隐若现的苦恼——关节炎、老年痴呆症……这催生了一个试图阻止病痛的庞大产业——保健品产业。去年，美国人花在保健品上的钱约为280亿美元，比购买健身房会员卡的钱还要多出50亿美元。但保健品真的有用吗？保健品介于食品和药品之间，是一种定义模糊、范围很广却缺乏监管的消费品。据说有了它们，人们不吃食物和药物，也能同时拥有营养和健康，因此又被称为营养保健品。

作者对保健品的态度是：

- A . 怀疑其功效
- B . 认为有益健康
- C . 反对人们食用
- D . 认为该产业前途光明

36. ①这些霜花团团簇簇的，很有点花园的气象。

②一旦太阳从山峦中升起来，印着霜花的玻璃窗就像魔镜一样，散发出奇诡的光辉。

③早晨，迎接我的是一夜寒流和冷月，以及凝结在玻璃窗上的霜花。

④这天的霜花不似往日的，总是呈树的形态。

⑤想必霜花也知道立春了吧。

⑥你能从中看出喇叭形的百合花来，也能看出重瓣的玫瑰和单瓣的矢车菊来。

将以上6个句子重新排列，语序正确的是：

- A . ⑤③④⑥②①
- B . ③⑤④①⑥②
- C . ⑤④③⑥①②
- D . ③④⑤②①⑥

37. ①如果把信息看做是一种自我资源，那么信息的公开透明就会被当做是一种权宜之计

②这说明，公开透明不仅是一个技术问题，更是一个深层次的理念问题

③面对一些突发性公共事件，许多地方都会在第一时间发布信息，这极大地增进了人们对政府的信任支持

④在这个意义上，公开透明的问题，本质上是一个以人为本的问题；政府公信力的打造，与政府服务人民紧密相连

⑤也有一些信息发布的效果并不好，究其原因，就在于发布的并非是公众关注的信息，甚至对公众的关切质疑刻意回避

⑥反之，如果树立服务型政府理念，认识到政府信息的公共资源属性，尊重人民的知情权，公开透明就会成为一种主动选择

将以上6个句子重新排列，语序正确的是：

- A . ①④③⑤②⑥
- B . ③⑤①④②⑥
- C . ①③⑤⑥②④
- D . ③⑤②①⑥④

38. ①二十世纪五六十年代，许多信息灵通人士认为苏美之间的核战争不可避免

②预测是否实现，依赖于人们如何作出反应

③因为人们意识到了它的可能性

- ④任何预测都不是自我实现的或非自我实现的
- ⑤但是这场核战争并未发生
- ⑥并推动了核武器控制和其他安排来确保它不发生

将以上6个句子重新排列，语序正确的是：

- A . ④①③⑤⑥②
- B . ②①⑤④③⑥
- C . ②①⑤③④⑥
- D . ④②①⑤③⑥

39. 公共舆论是各种社会意见的集合，在不同意见表象的背后都有着内在的理性认知逻辑。再简单的意见都有其“道理”，并非只是人们情绪化的反映，情绪往往是伴随一定的认知逻辑出现的。就政府形象舆论而言，影响人们对政府评价的意见，除了个体的利益诉求和直接体验外，很大程度上是基于人们对社会的基本认知态度和价值选择，这就构成了人们对政府形象认知的基础逻辑。当人们从自身的认知逻辑出发，能够对政府的行政作为进行合理的逻辑构架时，就可以得出积极的、肯定性的意见评价；而当人们无法从认知逻辑上对政府决策及其管理行为加以合理解释时，自然就会形成消极的、否定性的意见评价。

这段文字主要评论：

- A . 应从理性逻辑层面解读公共舆论
- B . 公共舆论的形成有其内在逻辑基础
- C . 应引导大众理性分析政府行政决策
- D . 个体认知逻辑决定了对政府形象认知的差异

40. 酒可以渲染气氛，有助于谈兴，故浪漫倜傥的诗人无不喜欢这个调儿。二十来岁即位列“初唐四杰”之冠的王勃，据说他在写《滕王阁》七言古诗和《滕王阁序》时，先磨墨数升，继而酣饮，然后拉起被子覆面而睡，醒来后抓起笔一挥而就，一字不易。李白当年奉召为玄宗写《清平调》时，也是在烂醉之下用水泼醒后完成的。“钟鼓馔玉不足贵，但愿长醉不复醒。古来圣贤皆寂寞，唯有饮者留其名。”他的《将进酒》字字都含酒香。如果把他所有写酒的诗拿去压榨，也许可以榨出半壶高粱酒来。

画横线的句子说明李白：

- A . 是最钟情于酒的诗人
- B . 写了很多关于酒的诗篇
- C . 写酒的诗多为经典之作
- D . 酒是写诗时不可或缺的

41. 在经济学领域有“后发劣势”的概念。这指的是落后国家由于发展较迟，因此对发达国家进行模仿，模仿有两种形式，一种是模仿制度，另一种是模仿技术和工业化模式。由于是后发国家，所以可以在没有基础制度的情况下通过技术模仿实现快速发展。然而，这一模仿虽然相对容易实现，但会给长期的发展留下

许多隐患。事实上，当前我国老工业基础所面临的一系列问题，_____。

填入画横线部分最恰当的一句是：

- A . 正是我国在工业化进程中后发劣势的体现
- B . 仅仅依靠市场这只无形的手是无法解决的
- C . 意味着我国传统产业的转型升级必须走向纵深
- D . 可通过淘汰落后产能和行业兼并重组等政策加以实现

42. 有许多长寿的人，你问他们常吃什么食品，他们回答说：“什么都吃，并无特殊的禁忌。”但有许多东西他们只尝一口，就敏锐地判断出成色。读书也是一样，好的书，是人参燕窝熊掌，人生若不大快朵颐，岂不白在世上潇洒走过一回？坏的书，是腐肉砒霜氰化物，浪费了时间贻误了性命。名著一般多是经过了许多年代的考验，是被大师们的智慧研磨了无数遭的精品。读的时候，像烈火烹油的满汉全席，为大享乐。

这段文字旨在说明：

- A . 读书要有所选择
- B . 名著如美食般余味无穷
- C . 物质和精神食粮同样重要
- D . 鉴别书籍比鉴别美食更困难

43. 中国书法与汉字密切相关，而汉字同其他文字一样，有形、音、义三要素。书写者总是为显“义”而构形，而并非为构“形”而构“形”，为书写而书写。现在的问题是，“书法”研究者仅着眼于书写者的构“形”和接受者的识“形”、观“形”，把书写者显“义”和接受者会“义”的目的丢掉了。这样，研究者尽管把汉字的“形”分析得头头是道，但抽掉了汉字的“文化”这一核心内容，便不能认识汉字及其显示形态的功能价值。

下列哪一项说法与作者的观点相符：

- A . 中国书法历来重视展示汉字的内涵
- B . 书法研究应兼顾汉字的“形”与“义”
- C . 书法研究者应将汉字的“义”放在首位
- D . 书法欣赏中存在得“义”忘“形”的倾向

44. 哥伦比亚大学的心理学教授罗伯特·海尔曾经做过实验，发现喜欢虐待、生性残忍的人在辨识富有情感意涵的词汇与一般词汇时，脑波无明显差异，而普通人的脑波则表现出不同。进一步研究表明，前者负责辨识字的语言皮质以及负责赋予字义的边缘系统的链接出了问题。正因如此，他们的情感较常人淡薄，在面对痛苦时不会引发焦虑，甚至对于恐惧没有感受。犯罪心理学研究表明，那些暴力犯罪者通常是这种缺乏同理心的人，他们无法设身处地为别人着想或同情别人，亦很难受到良心谴责。

下列说法与原文相符的是：

- A . 喜欢虐待、生性残忍的人没有同理心
- B . 普通人与暴力犯罪者的脑波有所不同

- C . 暴力犯罪者在辨识文字时往往存在困难
- D . 难以受到良心谴责是缺乏同情心者的特征之一

45. 未来政府财政预算改革的基本取向是建立公共财政，预算资金安排要体现公共性、政策性的客观要求。由于节能具有鲜明的公益性特征，属于社会共同需要的范畴，因此，公共预算设立节能项目与公共预算的改革方向是吻合的。在我国财政经济实力不断增强的背景下，加之必要的预算结构调整，我国的财政经常性预算已具备支持节能支出的财力基础。为此，政府需要通过调整预算支出结构，保证财政用于节能预算的资金投入。

最适合做这段文字的标题是：

- A . 建立公共财政，推进实施政府财政预算改革
- B . 加大政府公共财政预算，推进节能项目建设
- C . 建立政府公共财政，设立节能项目公共预算
- D . 推进政府财政改革，确保节能项目资金投入

数量关系

请根据题目要求，在每个选项中选出一个最恰当的答案。

46. 有红、黄、蓝三种颜色的木棍若干根，所有木棍的长度都是整数厘米，且同一颜色的木棍长度也相同。已知用两红两黄、两红两蓝和两黄两蓝的木棍拼成的长方形，面积分别为20、28和35平方厘米。

问蓝色木棍的长度是多少厘米：

- A . 8
- B . 7
- C . 5
- D . 4

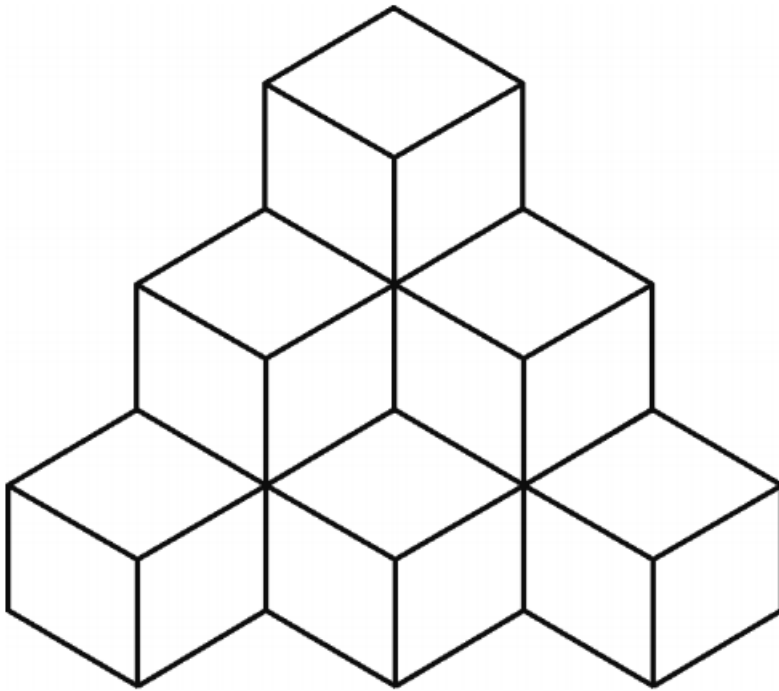
47. 将10名运动员平均分成两组进行对抗赛，问有多少种不同的分法：

- A . 120
- B . 126
- C . 240
- D . 252

48. 某医院药品仓库有14600克浓度为98%的酒精。问加入多少克蒸馏水之后，可以稀释成浓度正好为73%的消毒酒精：

- A . 4600
- B . 5000
- C . 9600
- D . 19600

49. 甲、乙、丙三人同时从起点出发，匀速跑向100米外的终点，并在到达终点后立刻匀速返回起点。甲第一个到达终点时，乙和丙分别距离终点20米和36米。
问当丙到达终点时，乙距离起点多少米：
- A . 60
B . 64
C . 75
D . 80
50. 某高校学生宿舍实行用电定额制，每个月定额内每度电0.5元，超过定额后每度电涨价60%。某寝室上月用电35度，交费22元。
问每个宿舍的用电定额是每个月多少度：
- A . 16
B . 20
C . 26
D . 30
51. 某市针对虚假促销的专项检查中，发现某商场将一套茶具加价4成再以8折出售，实际售价比原价还高24元。问这套茶具的原价是多少元：
- A . 100
B . 150
C . 200
D . 250
52. 某工厂接了一批订单，要生产2400件产品。在开始生产10天后，由于工艺改进每天多生产30件产品，结果提前2天交货，问该厂没有改进工艺前，每天能生产多少件产品：
- A . 100
B . 120
C . 150
D . 180
53. 把若干个大小相同的立方体摆成如下图形状。从上向下数，摆1层有1个立方体，摆2层共有4个立方体，摆3层共有10个立方体，问摆7层共有多少个立方体：



- A . 60
- B . 64
- C . 80
- D . 84

54. 小赵每工作9天连休三天，某次他在周五、周六和周日连休，问他下一次在周六、周日连休是在本次连休之后的第几周：

- A . 3
- B . 5
- C . 7
- D . 9

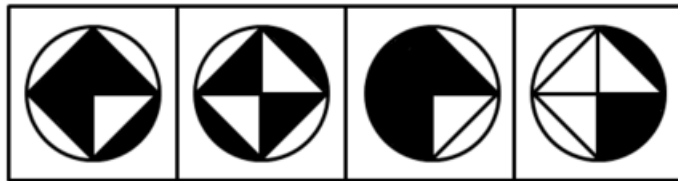
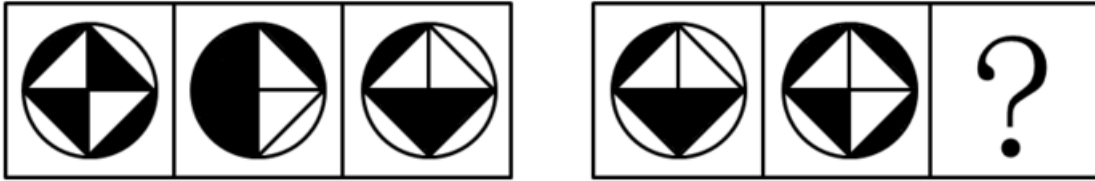
55. 商店本周从周一到周日出售A、B两种季节性商品，其中A商品每天销量相同，而B商品每天的销量都是前一天的一半。已知周五和周六，A、B两种商品的销量之和分别为220件和210件，问从周一到周日A商品总计比B商品多卖出多少件：

- A . 570
- B . 635
- C . 690
- D . 765

判断推理

请根据题目要求，在每个选项中选出一个最恰当的答案。

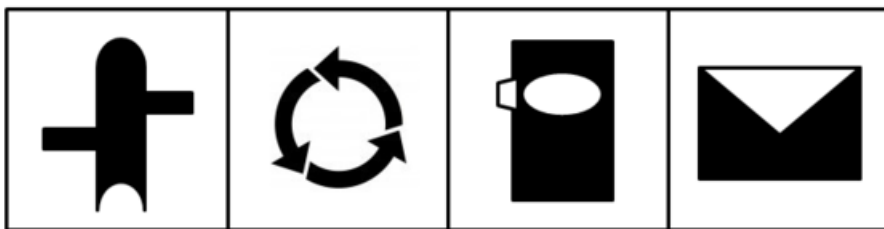
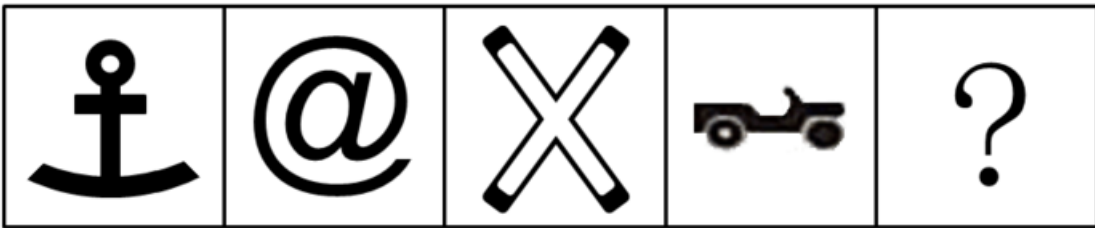
56. 请从下面的四个选项中，选择最合适的一项填在问号处，使右边图形的变化规律与左边图形一致：



A B C D

- A . A
- B . B
- C . C
- D . D

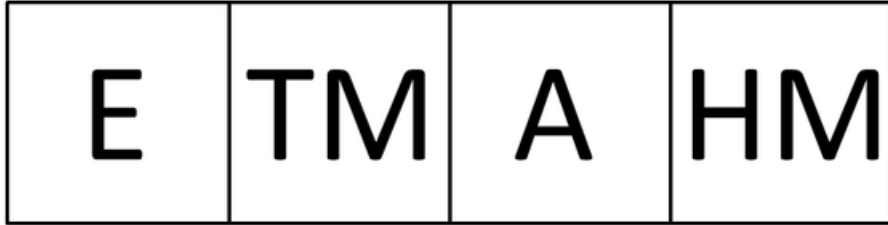
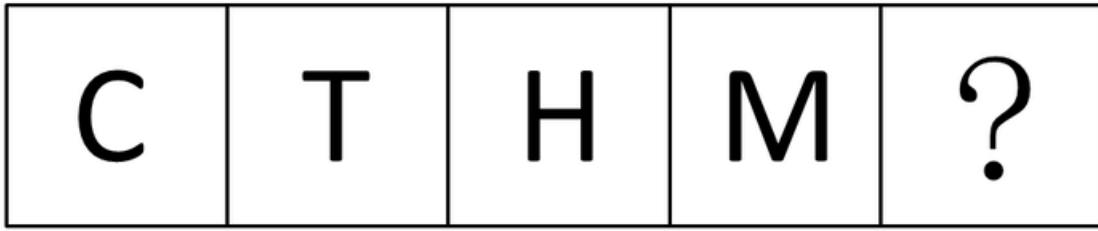
57. 从所给的四个选项中，选择最合适的一个填入问号处，使之呈现一定的规律性：



A B C D

- A . A
- B . B
- C . C
- D . D

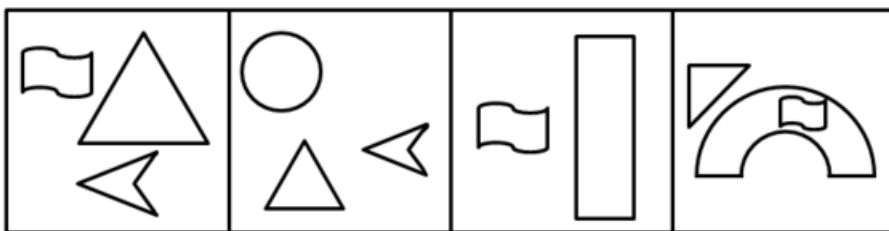
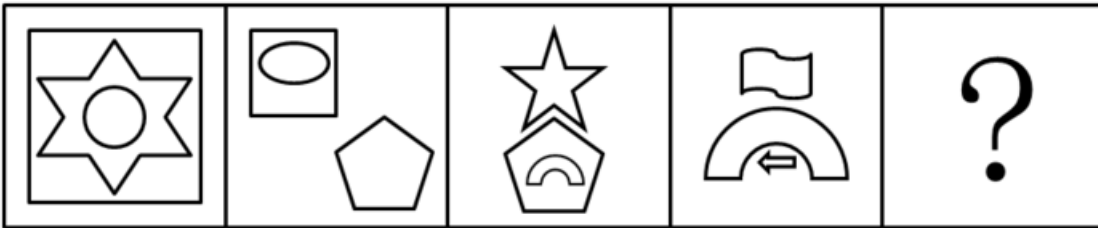
58. 从所给的四个选项中，选择最合适的一个填入问号处，使之呈现一定的规律性：



A B C D

- A . A
- B . B
- C . C
- D . D

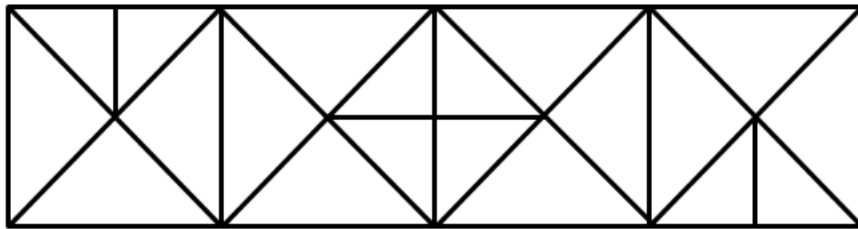
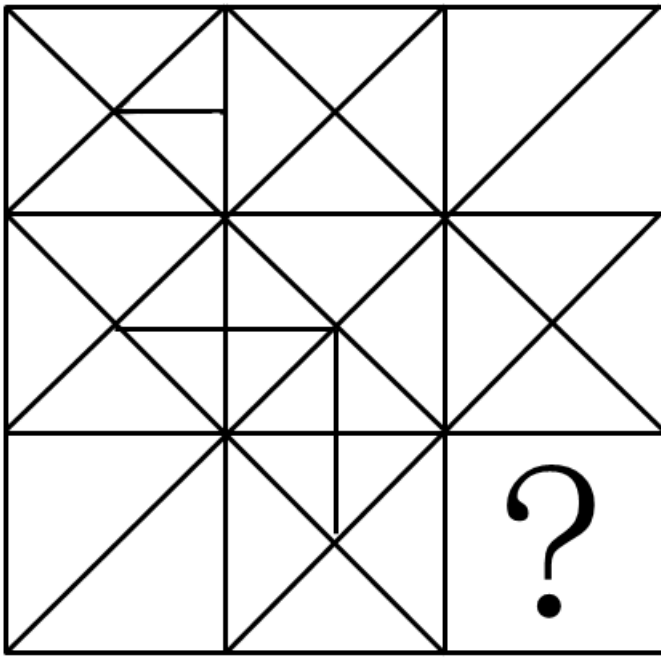
59. 请从所给的四个选项中，选择最合适的一个填入问号处，使之呈现一定的规律性：



A B C D

- A . A
- B . B
- C . C
- D . D

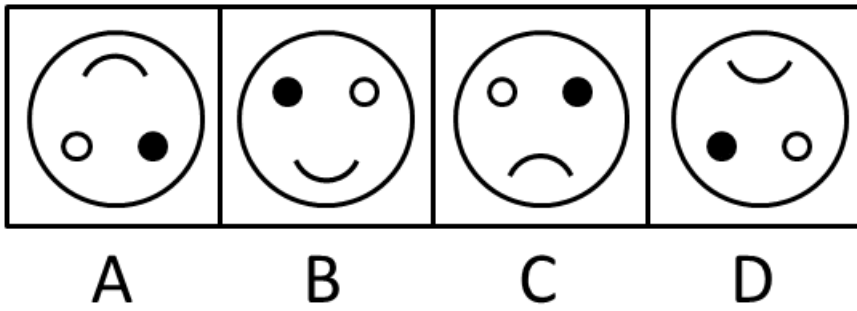

60. 从所给的四个选项中，选择最合适的一个填入问号处，使之呈现一定的规律性：



A B C D

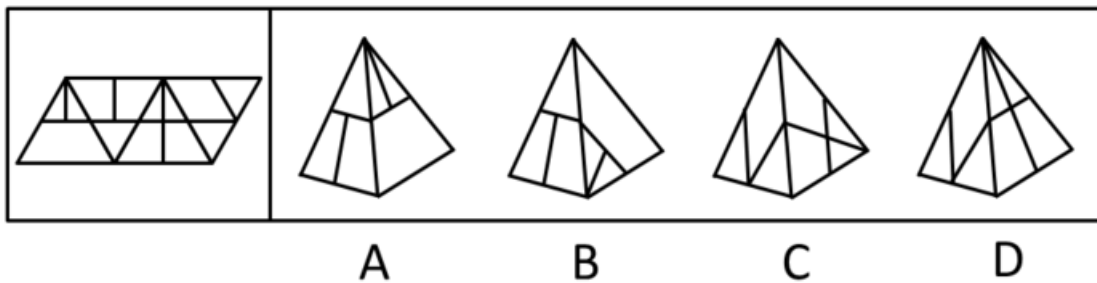
- A . A
- B . B
- C . C
- D . D

61. 从所给的四个选项中，选择最合适的一个填入问号处，使之呈现一定的规律性：



- A . A
- B . B
- C . C
- D . D

62. 左边给定的是纸盒外表面的展开图，右边哪一项能由它折叠而成？请把它找出来：



- A . A
- B . B
- C . C
- D . D

63. 德商是指一个人的人格和道德品质，其内容包括体贴、尊重、容忍、宽容、诚实、负责、平和、忠心、礼貌、幽默等各种美德。

根据上述定义，下列属于德商的是：

- A . 小徐善于把握机会，具有非凡胆略和魄力
- B . 小史喜欢挑战新鲜事物，对世界和他人充满探索欲望
- C . 小陈对环境的适应能力很强，在恶劣的环境下也能生存
- D . 小吴能理解别人的疾苦，考虑别人的感受，关心别人的生活

64. 社会壁垒是指在国际贸易中一国以其他国家劳动者的劳动环境和生存权利为借口而采取的贸易保护措施。

根据上述定义，下列属于社会壁垒的是：

- A . 甲国认为乙国制衣业雇佣童工现象严重，因而取消了该国的贸易订单
- B . 甲国在从乙国进口的奶粉中发现某种重金属含量超标，即终止了该项贸易
- C . 甲国受经济危机影响，国内工人大批失业，为给工人创造就业机会，甲国政府终止了与多国的进口贸易
- D . 甲国认为乙国汽车制造业的从业人员素质较低，会对汽车的安全性产生影响，因而取消了从乙国进口汽车的订单

65. 创伤后压力反应是指在遭遇或对抗重大压力后，其心理状况产生失调后遗症，但这个现象是经历创伤后所产生的合理结果，而非患者心理状态原本就有问题。

根据上述定义，下列不属于创伤后压力反应的是：

- A . 小王连续面试失败后经常失眠，变得易怒、过度警觉、失忆和易受惊吓
- B . 一位二战老兵晚景凄凉，妻离子散，不久前又诊断出患有危及生命的重病
- C . 小吴在地震中死里逃生后，一听到楼板响就高度紧张，担心楼板掉下来砸了自己
- D . 在中东国家，饱受战争之苦的人一谈到四处盘旋的轰炸机就吓得想四处躲藏

66. 法定孳息是指依一定的法律关系由原物所生的物，是原物的所有权人进行租赁、投资等特定的民事法律活动而应当获得的合法收益。

根据上述定义，下列属于法定孳息的是：

- A . 甲投资国债获得的分红
- B . 某农民承包的果园产出的水果
- C . 宠物商店的纯种狗配种生出的小狗
- D . 甲借给乙的钱，乙购买彩票中了10万元大奖

67. 共情是指能设身处地地体验他人的处境，对他人情绪情感具备感受力或理解力。

根据上述定义，下列属于共情的是：

- A . 己所不欲，勿施于人

- B. 先天下之忧而忧，后天下之乐而乐
 C. 纸上得来终觉浅，绝知此事要躬行
 D. 老吾老以及人之老，幼吾幼以及人之幼
68. 生态工艺指的是把大自然的法则应用于社会物质生产，模拟生物圈物质运动过程，设计无废料的生产，以闭路循环的形式，实现资源充分合理的利用，使生产过程保持生态学上的洁净。
 根据上述定义，下列符合生态工艺的生产模式的是：
- A. 物质—产品—消费—残留物
 B. 原料—产品—剩余物—加工—产品
 C. 自然环境—房地产开发—旅游经济—消费
 D. 原料—生产—剩余物—废弃物—回收掩埋
69. 归因是指人们对他人或自己行为原因的推论过程，归因偏差是指由于主观上的原因而造成的归因偏向和差别，是不当归因的主要形成原因。下列行为存在归因偏差的是：
- A. 陈某因为一件琐事和邻居王某产生矛盾，从此不再与其来往
 B. 李某在自己工作不顺利时，总是感叹“谋事在人，成事在天”
 C. 老师帮助张某分析成绩下降的原因，说他对学习的专注度不如以前了
 D. 高某竞争部门经理失败后，主动分析对手成败的原因，改进自己的不足
70. 自然环境效应是以地能和太阳能为主要动力来源，环境中的物种相互作用所产生的环境效果；人为环境效应则是由于人类活动而引起的环境质量变化和生态变异的效果。
 根据上述定义，下列属于自然环境效应的是：
- ①云南昆明日照时间长，花木长得特别好，花期也长
 ②酸雨造成地面的水体和土壤的酸度增大，使农业和渔业减产
 ③某区实行退耕还林多年，泥石流比过去少了，庄稼也比过去长得更好
 ④地震使山体松动，一遇大雨，就容易发生泥石流
 ⑤村民祖祖辈辈生活在大山里，靠打猎为生，致使山里的动物逐渐减少
- A. ①④
 B. ①②③
 C. ②③⑤
 D. ①②③④
71. 前馈控制是指通过观察情况、整理信息、掌握规律、预测趋势，正确预计未来可能出现的问题，提前采取措施，将可能发生的偏差消除在萌芽状态。
 根据上述定义，下列属于前馈控制的是：
- A. 股票投资者根据往年的股市行情预测今年股票投资可能存在的风险
 B. 某企业根据企业的规模、核心竞争力和发展规划制定企业战略

- C . 某电子商务网为应对可能出现的市场变化制定了多个方案
- D . 某工厂因为原材料和燃料等物资价格上涨调整了生产模式

72. 网络中立是指在法律允许范围内，所有互联网用户都可以按自己的选择访问网络内容、运营应用程序、接入设备、选择服务提供商。这一原则要求网络运营商平等对待所有互联网内容和访问，防止其从商业利益出发控制传输数据的优先级，保证网络数据传输的“中立性”。

根据上述定义，下列哪项违反了网络中立原则：

- A . 某邮箱与网络运营商有合约，故网络拥挤时使用该邮箱更快
- B . 某网络运营商采取技术手段，屏蔽了带有欺诈性质的网站
- C . 某网站的某些图片只有注册用户才有权浏览
- D . 某网络运营商向入网用户收取宽带使用费

73. 豺狼：凶残

- A . 喜鹊：报喜
- B . 小鸟：依人
- C . 蜜蜂：勤劳
- D . 梅花：坚强

74. 火药：烟花

- A . 汽油：汽车
- B . 金属：指南针
- C . 无线电：手机
- D . 玻璃：放大镜

75. 葡萄：酒

- A . 大米：年糕
- B . 铁观音：茶
- C . 椰子：糖
- D . 大豆：酱油

76. 石料：刻刀：石雕

- A . 石墨：钻石：首饰
- B . 电源：电灯：光线
- C . 木材：锯子：家具
- D . 石灰石：熔炉：玻璃

77. 拍卖会：拍卖师：艺术品

- A . 果园：农民：水果
- B . 奥运会：运动员：跑道

C. 商场：售货员：商品

D. 山峰：登山者：帐篷

78. 瑜伽教练都不住在华兴园小区，但是华兴园小区的有些住户是太极拳教练，瑜伽教练大多住在花园路小区。

由此可以推出：

A. 有些太极拳教练是瑜伽教练

B. 花园路小区在华兴园小区内

C. 有些太极拳教练不是瑜伽教练

D. 住在花园路小区的大多是瑜伽教练

79. 婚姻的维系离不开夫妻双方彼此信任，信任是保持稳定亲密关系的基础。但仅仅信任是不够的，还需要有共同的兴趣爱好，两个人一起打发时间，体会生活的乐趣。因此，信任和共同兴趣爱好是婚姻稳定的必要因素。

根据上述文字，可以得出：

A. 彼此信任并且有共同兴趣爱好的夫妻一定能长久

B. 仅仅有共同兴趣爱好的婚姻关系肯定是不稳定的

C. 幸福长久的婚姻关系意味着双方大多拥有共同兴趣爱好

D. 建立在信任和共同兴趣爱好基础上的关系是最理想的婚姻关系

80. 脸部肌肉直接和大脑的情绪控制区相连，所以面部表情是心情的窗口。通过近距离观察面部表情、肢体语言和说话声调，任何人都可以识别出说谎者的谎言痕迹。

以下哪项如果为真，能够质疑上述观点：

A. 即便最高科技的谎言识别器都无法识破所有谎言

B. 极少数的人能够下意识地控制他们的整个面部表情

C. 真实的情绪和不真实的情绪通过不同的方式进入大脑

D. 如果有人说他很伤心，但他的眉毛内侧没有上拉，那么他的悲伤很可能是假的

81. 近年来，我国电子垃圾产生量增长迅猛。电子垃圾问题若得不到妥善解决，建设生态文明的目标就无法实现。因此，必须多管齐下，综合治理。除了建立生产者责任延伸制度和加大打击电子垃圾进口走私力度外，还要大力促进电子垃圾拆解处理领域的技术创新。如果这样，那么电子垃圾就不再会是令人头痛的污染源，而能成为填补短缺的“新矿山”。

由此可以推出：

A. 只有妥善解决电子垃圾问题，才能实现建设生态文明的目标

B. 如果能够实现电子垃圾拆解处理领域的技术创新，就能彻底解决电子垃圾问题

C. 如果建立生产者责任延伸制度，它们就能从设计开始尽量降低电子垃圾产生量

D. 如果电子垃圾仍是令人头痛的污染源，那么一定是打击电子垃圾进口走私力度不够

82. 美国一项最新研究发现，肥胖具有“社会传染性”，它很容易从一个人传染到另一个人身上，社会纽带在肥胖问题上的影响甚至超过基因的作用。研究人员认为，这主要是由于身体肥胖的亲人和朋友改变了你对于体重可接受的标准，你会认为他们的体重可以接受。

以下哪项如果为真，最能质疑研究人员的解释：

- A . 肥胖的人更倾向和肥胖的人交朋友
- B . 基因对人的肥胖程度的影响其实是不确定的
- C . 一个人的饮食生活习惯往往会受到家人和朋友的影响
- D . 很多人由于现代社会压力大、暴饮暴食等原因导致肥胖

83. 某村突发山洪泥石流灾害后，有一批帐篷捐助给受灾群众，但捐助人没有留下姓名就悄然离去。事后，村民经过多方了解，得知以下事实：

- (1) 这批帐篷是由一辆大卡车运来的；
- (2) 如果张华不参加这项捐助活动，王刚也不会参加；
- (3) 李伟不会开大卡车；
- (4) 捐助者在上述3人之中，没有雇佣他人。

由此可以推出：

- A . 3人都是捐助者
- B . 王刚一定是捐助者
- C . 李伟一定是捐助者
- D . 张华一定是捐助者

84. 一项研究发现，一对同是右撇子的夫妻生出左撇子孩子的几率只有9.5%左右。如果父母中有一方是左撇子，那么孩子是左撇子的几率上升到19.5%。如果父母双方都是左撇子，那么孩子是左撇子的几率则为26%。因此研究者认为左右手的使用习惯是受遗传影响的。

以下哪项如果为真，能够削弱上述观点：

- A . 一项针对双胞胎的研究发现，双胞胎中有50%是一个左撇子一个右撇子
- B . 观察发现，孩子一旦形成使用左手或右手的习惯就很难再改变
- C . 对大多数动物来说，对某侧肢体的使用习惯似乎是随机的
- D . 不同的左右手使用习惯很可能为不同的人带来不同的天赋

85. 某国际组织针对多边协定发布研究指出，多边协定通过减少国际贸易的繁文缛节将显著降低贸易成本。其中，发达国家的贸易成本降低10%，发展中国家的贸易成本将降低13%~ 15.5%，而全球贸易成本每降低1%，将为全球经济带来超过40亿美元的收入。该组织分析认为，多边协定的签署将极大地促进全球经济的发展。

以下哪项如果为真，最能质疑该组织的分析结果：

- A . 协定签署后，全球贸易量在近期没有发生明显变化

- B. 所签署的多边协定，并未在大多数国家中得到实施
- C. 从发达国家和发展中国家的贸易成本无法得知全球的贸易成本
- D. 发展中国家和发达国家贸易成本降低的比例不一致，将影响全球贸易成本的降低

资料分析

请根据题目要求，在每个选项中选出一个最恰当的答案。

表1 2008~2011年我国农民工从事的主要行业分布

单位：%

行 业	2008 年	2009 年	2010 年	2011 年
制造业	37.2	36.1	36.7	36.0
建筑业	13.8	15.2	16.1	17.7
交通运输、仓储和邮政业	6.4	6.8	6.9	6.6
批发零售业	9.0	10.0	10.0	10.1
住宿餐饮业	5.5	6.0	6.0	5.3
居民服务和其他服务业	12.2	12.7	12.7	12.2

表2 2011年农民工在不同地区从事的主要行业分布

单位：%

行 业	全国	东部地区	中部地区	西部地区
制造业	36.0	44.8	23.0	15.4
建筑业	17.7	13.4	24.7	27.4
交通运输、仓储和邮政业	6.6	5.5	8.1	9.3
批发零售业	10.1	8.7	13.1	12.5
住宿餐饮业	5.3	4.5	5.9	7.3
居民服务和其他服务业	12.2	12.3	11.4	12.2

86. 在表1中所列主要行业中，2008~2011年从业农民工在全国农民工中的比重逐年增加的是：
- A. 制造业
 - B. 建筑业
 - C. 居民服务和其他服务业
 - D. 交通运输、仓储和邮政业
87. 在表2所列主要行业中，2011年东部地区在该行业中从业的农民工数量占该地区农民工总数的比重高于全国总体水平的行业个数是：
- A. 0个
 - B. 1个
 - C. 2个

D . 3个

88. 表1中六大行业的从业农民工占全国农民工总数的比重低于上年的年份是：

A . 2009年

B . 2010年

C . 2011年

D . 2010年和2011年

89. 表1中2011年从事该行业的农民工占有所有农民工比重与上年相比变化最小的行业，其在东部地区的从业农民工占该地区所有农民工的比重与西部地区相差几个百分点：

A . 3.8

B . 4.4

C . 11.3

D . 14.0

90. 下列关于全国农民工在不同行业从业人数占农民工总数比重的描述与资料相符的是：

A . 批发零售业和住宿餐饮业从批发零售业和住宿餐饮业从业农民工数占农民工总数比重在2008 ~ 2011年间的变化趋势相同

B . 2009 ~ 2011年，制造业和建筑业从业农民工数之和占农民工总数的比重均比上年水平有所上升

C . 在六大行业中，2011年中部地区每个行业从业农民工数占农民工总数比重均居三大区域中第二名

D . 与2009年相比，六大行业中有超过一半的行业在2010年的从业农民工数占农民工总数比重没有变化

2010年，我国投入研究与试验发展（以下简称R&D）经费7062.6亿元，比上年增长21.7%；R&D经费投入强度（与国内生产总值之比）为1.76%；比上年的1.70%有所提高。按R&D人员（全时工作量）计算的人均经费为27.7万元，比上年增加2.3万元。

分产业部门看，R&D经费投入强度（与主营业务收入之比）最高的行业是专用设备制造业，为2.04%；

其他投入强度在1.5%及以上的还有4个行业，分别是医药制造业（1.82%）、通用设备制造业

（1.59%）、电器机械及器材制造业（1.59%）和仪器仪表及文化、办公用机械制造业（1.50%）。

2011年，我国投入R&D经费8687亿元；R&D经费投入强度为1.84%。按R&D人员（全时工作量）计算的人均经费支出为30.1万元。

分产业部门看，R&D经费投入超过200亿元的行业有8个，这8个行业的研发费用占全部规模以上工业企业的比重达72%；R&D经费投入强度超过规模以上工业平均水平（0.71%）的有11个行业。

我国2010~2011年R&D经费投入统计表

年份	R&D 经费投入额	按活动类型分			按执行部门分			
		基础研究	应用研究	试验发展	企业	研究机构	高等院校	其他
2010	7062.6	324.5	893.8	5844.3	5185.5	1186.4	597.3	93.4
2011	8687	411.8	1028.4	7246.8	6577.3	1306.7	688.9	114.1

91. 2009年我国投入R&D经费约为多少亿元：

- A . 5580
- B . 5800
- C . 6350
- D . 7063

92. 从活动类型看，2011年研究经费比上年增加额最多的和增长率最高的活动类型分别是：

- A . 试验发展 试验发展
- B . 应用研究 试验发展
- C . 应用研究 基础研究
- D . 试验发展 基础研究

93. 2010及2011两年间，企业R&D经费投入金额约是高等院校的多少倍：

- A . 7
- B . 8
- C . 9
- D . 10

94. 2011年R&D经费投入超过200亿元的行业比2010年R&D经费投入强度不低于1.5%的行业多几个：

- A . 1
- B . 2
- C . 3
- D . 4

95. 以下无法直接从资料推出的是：

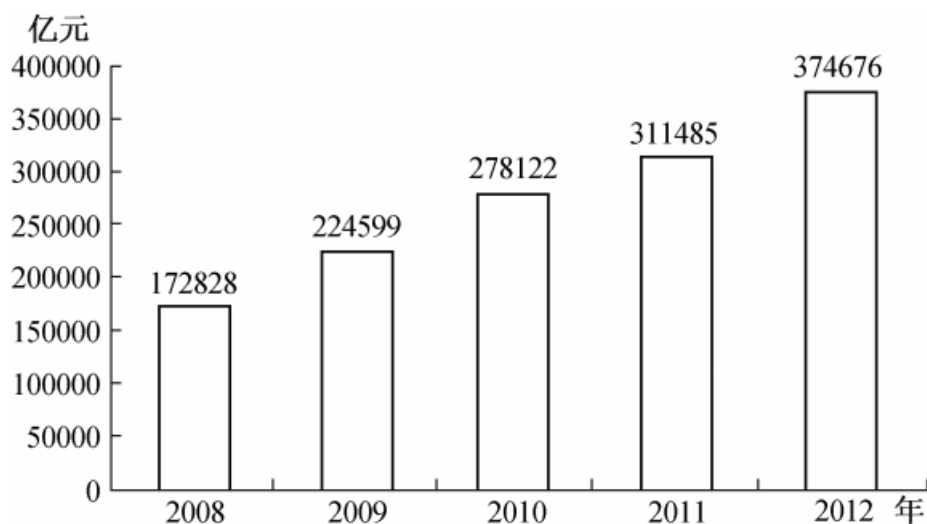
- A . 2010年我国国内生产总值同比增速
- B . 按全时工作量计算的2009年R&D人员数
- C . 2010年研究机构R&D经费投入额同比增速
- D . 2010年通用设备制造业R&D经费投入强度在各行业中排名

2012年1~12月，全国固定资产投资（不含农户）364835亿元，同比增长20.6%。

2012年1~12月全国固定资产投资状况（不含农户）

	金额(亿元)	同比增速(%)	增速与1~11月累计相比(百分点)
第一产业	9004	32.2	1.7
第二产业	158672	20.2	-0.9
其中:工业	154636	20.0	-1.1
其中:采矿业	13129	11.8	-0.4
制造业	124971	22.0	-0.8
电力、热力、燃气及水的生产和供应业	16536	12.8	-3.4
第三产业	197159	20.6	0.2

2008~2012年我国固定资产投资额(含农户)



96. 2012年全国农户固定资产投资额为多少亿元:

- A . 9539
- B . 9603
- C . 9685
- D . 9841

97. 2009~2012年, 全国固定资产投资额(含农户)同比增速超过20%的年份有几个:

- A . 1
- B . 2
- C . 3
- D . 4

98. 表中2012年1~12月, 工业固定资产投资约比上一年度增加多少万亿元:

- A . 2.6
- B . 2.7

C . 2.9

D . 3.1

99. 以下不同产业或行业按照2012年1~11月固定资产投资额同比增速从高到低顺序排列正确的是：

A . 第一产业，第二产业，第三产业

B . 第一产业，第三产业，第二产业

C . 采矿业，制造业，电力，热力，燃气及水的生产和供应业

D . 制造业，采矿业，电力，热力，燃气及水的生产和供应业

100. 关于2012年全国固定资产投资状况，能够从上述资料中推出的是：

A . 第一产业同比增长超过3000亿元

B . 总投资额同比增量为4年以来最高

C . 制造业投资额占第二产业的八成以上

D . 第二产业投资额同比增量高于第三产业



如何对答案：打开公考通app
进入历年真题，录入答案后即可评分并查看解析。