

# 2015年9月吉林公务员考试 行测真题（甲级）



打开公考通app  
进入历年真题查看解析

## 常识判断

请根据题目要求，在每个选项中选出一个最恰当的答案。

1. 习近平总书记在吉林调研时强调，保持战略定力，增强发展自信，坚持变中求新，变中求进，变中突破。走出一条质量更高，效益更好，结构更优，优势充分释放的发展新路。

这段话说明：

- A. 要大力推进创新驱动发展，形成以创新为引领的经济体系
  - B. 适应和引领经济发展新常态，我们的认识和实践已成熟
  - C. 我国的经济形态已经进入分工优化，结构合理的新阶段
  - D. 东北老工业基地的振兴发展，应大唱“工业一柱擎天”
2. 在国家治理上，中国古代很早就产生了德治理念。


下列德治理念出自《论语》的是：

- A. 以德为国者，甘如饴蜜，固于胶漆，是以圣勉而崇本而不敢失也
  - B. 为政以德，譬如北辰，居其所而众星共之
  - C. 君子以德，小人以力，力者德之役也
  - D. 以德服人者，中心悦而诚服也
3. 朋友见面打招呼，过去是“吃饭了吗”，如今流行“搬新家了吗”“旅游了吗”“进修了吗”。

这种现象可以反映出：

- A. 恩格尔系数时小时大
  - B. 恩格尔系数变小
  - C. 恩格尔系数不变
  - D. 恩格尔系数变大
4. 在中国人民抗日战争暨世界反法西斯战争胜利70周年纪念活动中，有一种标识被指定用于背景板、标牌、彩旗等环境布置和相关宣传品中，该标识是：





D .

5. 有一副对联，“白话通神，红楼梦、水浒，真不可思议；古文讨厌，欧阳修、韩愈，是什么东西。”这对联最有可能出自：
- A . 洋务运动时期
  - B . 辛亥革命时期
  - C . 戊戌变法时期
  - D . 新文化运动时期
6. 一位外国游客想了解齐鲁文化，下列最能代表齐鲁文化特点的旅游路线是：
- A . 烟台—潍坊—淄博—济南
  - B . 济南—淄博—泰安—曲阜
  - C . 青岛—烟台—威海—泰安
  - D . 青岛—潍坊—济南—曲阜
7. 古代座次尊卑有别，在鸿门宴上，“项王、项伯东向坐，亚父（范增）南向坐；沛公北向坐，张良西向侍。”
- 按照由尊至卑的顺序排序正确的是：
- A . 项王、项伯、沛公、亚父、张良
  - B . 亚父、项王、项伯、沛公、张良
  - C . 项王、项伯、亚父、沛公、张良
  - D . 项王、项伯、沛公、张良、亚父
8. 下图为中国古代一次重要的战役形势图，据此进行的下列判断，正确的是：



- A . 交战双方分别为刘邦军队和项羽军队
  - B . 是中国历史上著名的以少胜多的战役
  - C . 发生在统一的中央集权制国家建立前
  - D . 双方决战地位于今河北省邯郸市境内
9. 西周初期，统治者开始分封诸侯，受封的主要有同姓子弟，此外也有异姓功臣。  
下列属于分封异姓功臣而建立的诸侯国是：
- A . 鲁国
  - B . 齐国
  - C . 晋国
  - D . 蔡国
10. 下列各对联与其所涉及的人物对应错误的一项是：
- A . 青冢有情犹识路，平沙无处可招魂——王昭君
  - B . 写鬼写妖高人一等，刺贪刺虐入木三分——蒲松龄
  - C . 羽扇纶巾，谈笑间，檣櫓灰飞烟灭——诸葛亮
  - D . 青山有幸埋忠骨，白铁无辜铸佞臣——岳飞
11. 中国人民在抗日战争期间曾创作了3000多首歌曲，这些歌曲成为中国人民投身抗战的有力武器。  
下列均为抗战时期创作的抗战歌曲的是：
- A . 《二月里来》《松花江上》《嘉陵江上》
  - B . 《八路军进行曲》《延安颂》《歌唱祖国》
  - C . 《义勇军进行曲》《黄河大合唱》《浏阳河》

- D. 《大刀进行曲》《团结就是力量》《十送红军》
12. 农业是国民经济中的第一产业，对于中国这样的人口大国，农业具有战略性地位。  
以下关于我国农业的表述，错误的是：
- A. 我国最早的耕作技术是原始社会的人力耕作
- B. 《三字经》中，将稻、粱、菽、麦、黍、稷并称为六谷
- C. 今天我国广为种植的一些作物并非原产我国，而是外来引进，例如玉米
- D. 休闲农业是利用农业景观资源和农业生产条件，发展阳光、休闲、旅游的一种新型农业生产经营形态
13. 公务员小李因工作遇到一些困难和挫折，最近处于情绪消沉状态，下列最适合引导他摆脱这种状态的诗句是：
- A. 我自横刀向天笑，去留肝胆两昆仑
- B. 莫愁前路无知己，天下谁人不识君
- C. 雄关漫道真如铁，而今迈步从头越
- D. 少年辛苦终身事，莫向光阴惰寸功
14. 高鼎《村居》“草长莺飞二月天，拂堤杨柳醉春烟”与张敬忠《边同》“五原春色归来迟，二月垂柳未挂丝”。  
同是描写二月（农历），但景象却大相径庭这是因为：
- A. 纬度位置对气候有影响
- B. 经度位置对气候有影响
- C. 平原和山地有气候差异
- D. 地形不同对植物有影响
15. 春天来了，花红柳绿、鸟语花香。  
下列关于有花植物说法正确的是：
- A. 花的香气吸引昆虫有利于花粉的传播
- B. 漫天飞舞的柳絮是柳树的花
- C. 鸟类取食果实不利于植物繁衍
- D. 雌花、雄花都可以结出果实
16. “尽道隋亡为此河，至今千里赖通波。若无水殿龙舟事，共禹论功不较多。”  
诗中的“河”是指：
- A. 黄河
- B. 大运河
- C. 淮河
- D. 渭河

17. 下列说法中，错误的是：

- A . 小刚喜欢观察月相，他观察上弦月的最佳时间应是农历每月上半月的上半夜
- B . 小亮若乘宇宙飞船飞到金星上，他会看到太阳是从西面升起，并向东方落下
- C . 小明10岁时裸眼见到一次哈雷彗星，若他能活到90岁，还可能裸眼见一次
- D . 小林对类地行星具有浓厚的研究兴趣，因此他应重点研究水星、木星和土星

18. 下列关于生活常识的说法错误的是：

- A . 电脑显示器的背面比正面辐射强
- B . 汽车耗油量通常随着汽车排气量上升而增加
- C . 乱丢的废电池可造成人体镉中毒、锰中毒、汞中毒
- D . 复印机在复印过程中会产生二氧化硫从而损害人体健康

19. “舞动青春翅膀，谱写七彩人生。”所谓的“七彩”原意指“红、橙、黄、绿、蓝、靛、紫”七种颜色。

下列镜体在阳光照射下能呈现七色光的是：

- A . 凸面镜
- B . 凹面镜
- C . 平面镜
- D . 三棱镜

20. 中医的四诊“望”“闻”“问”“切”是摸脉象。这里的脉是指：

- A . 筋腱
- B . 静脉
- C . 动脉
- D . 经络

## 言语表达与理解

请根据题目要求，在每个选项中选出一个最恰当的答案。

21. “一带一路”愿景与行动的发布，引起各方广泛关注。在国际上，成为各国探讨合作的重要依托 \_\_\_\_\_，在国内，为扩大投资和拓展市场机遇提供了\_\_\_\_\_。

填入横线处最恰当的一组是：

- A . 凭证 基础
- B . 对象 契机
- C . 框架 平台
- D . 原则 舞台

22. 国际经济大环境如此\_\_\_\_\_，贸然进行投资选择，风险不言而喻。巴菲特说过：“钱就如同呼吸一样，需24小时运作。”在资产价格出现泡沫、政策方向不甚明朗、经济结构面临剧烈转变的时候，都应该让钱来

次\_\_\_\_\_，以控制风险，静观趋势走向。

依次填入画横线处最恰当的一项是：

- A . 扑朔迷离 深呼吸
- B . 形势险峻 急转弯
- C . 虚无缥缈 稳着陆
- D . 凶多吉少 硬着陆

23. 现在全世界的人口一共70亿，扣掉中国的13亿人，剩下都是外国人。而我国平均每人每年给每一位外国人做三件半衣服、三双鞋，其中有相当一部分是晋江的品牌…… \_\_\_\_\_，中国第二产业在\_\_\_\_\_没有问题，问题在于大而不强，还是缺少核心技术。

填入横线处最恰当的一组是：

- A . 显然 规模上
- B . 当然 数量上
- C . 固然 宏观上
- D . 虽然 技术上

24. 看起来生活好像总是如此的不公平。但即便是这样，没有谁因此占了谁的便宜，每一个人都感觉自己是不公平的受难者。也就是说，刻薄的世界\_\_\_\_\_，厚待的人生\_\_\_\_\_。

填入横线处最恰当的一组是：

- A . 屈指可数 指日可待
- B . 广阔无垠 回头是岸
- C . 比比皆是 遥遥无期
- D . 寥寥无几 遥不可及

25. 凤凰古城自实行一票制以来，就有\_\_\_\_\_，被\_\_\_\_\_有与民争利之嫌。

填入横线处最恰当的一组是：

- A . 非议 疑虑
- B . 异议 置疑
- C . 疑义 疑心
- D . 争议 质疑

26. 农业现代化与城市年轻一代并非\_\_\_\_\_，我们\_\_\_\_\_一批脚踏实地的有志者，在农业现代化进程中圆自己创业兴业的奋斗梦。

填入横线处最恰当的一组是：

- A . 山重水复难跨越 预见
- B . 一衣带水难沟通 喜闻
- C . 志不同不相为谋 喜见

D. 隔山隔水隔肚皮 乐见

27. 东北人口流失由一系列复杂的原因造成，有很多是全国性问题，也有一些是东北独有的，无须过度渲染，也不可\_\_\_\_\_。具体考察外流人口，大部分主要从事保洁、保安等简单劳动，这是近年来东北经济发展不振的一个结果，而不是一个原因。人口由经济欠发达地区向发达地区集中的普遍现象，本质上体现的则是地区间资源配置失衡。\_\_\_\_\_，趋利避害是人的本性，没有什么能够阻止人\_\_\_\_\_。

依次填入画横线部分最恰当的一项是：

- A. 视而不见 但是 远走高飞
- B. 粗心大意 然而 择木而栖
- C. 漠然置之 而且 北雁南飞
- D. 掉以轻心 毕竟 用脚投票

28. 令人欣喜的是，在此次发布的中国经济“2015半年报”中，服务业、高技术产业、网络消费等数据格外“\_\_\_\_\_”。其快速增长的背后，是改革创新的“\_\_\_\_\_”正在破解发展中的现实困难，激发引领中国经济可持续发展的不竭动力。

填入下列横线处的词语，最恰当的一组是：

- A. 惊艳 利刃
- B. 吸睛 法宝
- C. 惹眼 杀手锏
- D. 夺目 法眼

29. 现在新疆摘棉花都已经请不到人，人都跑到外地去了，这么大面积的棉花田怎么办？美国摘棉花靠的全是机械，以色列摘西红柿也全是\_\_\_\_\_，但我们的农业基本上都靠人。

填入下列横线处的词语，最恰当的一组是：

- A. 智能化
- B. 无人化
- C. 机械化
- D. 自动化

30. 不知道“用人不疑，疑人不用”最早出于何处，又是谁人的发明。但从读史得知，它可以说是一句\_\_\_\_\_，不时都有人说到它，也认可它的正确性。然而，过往的许多事实证明，一些被“用人不疑”的人，其实未必是\_\_\_\_\_的贤者；而一些被“疑人不用”的人，也未必就是\_\_\_\_\_。多疑还是不疑由某一个人独断于心的时候，这种错位就不能避免了。

填入下列横线处的词语，最恰当的一组是：

- A. 老生常谈 德才兼备 不肖之徒
- B. 肺腑之言 多谋善断 无良之辈



- C . 无稽之谈 大公无私 无耻之徒
- D . 经验之谈 德高望重 无名鼠辈

31. 网络热词“能靠脸，偏靠才”出自女喜剧演员贾玲的一条微博。素来以微胖、搞笑形象示人的贾玲昔日清秀照片被网友翻出，并在网上流传。贾玲立马通过微博机智回应：“我深情地演绎了：明明可以靠脸吃饭，偏偏要靠才华。”

对此热词网友做了全面阐释，请选出不恰当的一项是：

- A . 在自身颜值高，又很有才华的前提下，此语强调“内外兼修，更显内在”
- B . 在颜值不够，但有才华的情况下，此语强调“用才华弥补颜值”
- C . 在颜值不够，且才华也不够的情况下，此语便是强调“人丑就要多读书”
- D . 在自身颜值高，但才华不够的情况下，就必须“帅出新高度”

32. 当前文艺事业正迎来发展大繁荣的重要历史时期，广大戏剧工作者要\_\_\_\_\_创造出更多无愧于民族和时代的思想精深、艺术精湛、制作精良的优秀戏剧作品。

- ①继续解放思想、继承传统、开拓创新
- ②迎上党和国家高度重视戏剧艺术传承与发展的大好机遇
- ③大力践行“爱国、为民、崇德、尚艺”的文艺界核心价值观

依次填入横线上的句子，排序恰当的一项是：

- A . ②③①
- B . ①②③
- C . ①③②
- D . ③②①

33. 尽可能多地研究中国的社交电子商务趋势有助于美国商家判断应该推出哪类电子应用程序和服务。中国在全球经济舞台上的地位有何等重要？诺奖得主诺奖得主约瑟夫·施蒂格利茨对此作出了合理判断，他最近指出：“2014年是美国能号称世界最大经济强国的最后一年。进入2015年后，中国会居于首位，很可能留在这个位置很长一段时间，即使不是永远。”

依据文段的判断，下列推断合理的一项是：

- A . 中国如今是世界最大的智能手机市场，它也很可能是世界上最大的电子商务市场
- B . 保守估计，中国在社交电子商务方面领先西方十年
- C . 各国需要密切关注有关新技术正如何影响中国消费者的行为
- D . 研究中国不断变化的社交电子商务趋势并为此做好准备的商家将占据优势

34. 在大数据时代,信息堪称核心资源。让信息创造更多价值,将给“一带一路”增添巨大动能。全方位的信息合作成为落实“一带一路”倡议的重要一环。

下列选项，最能说明“信息合作”必要性的一项是：

- A . 围绕“一带一路”，众多海外企业界人士期待信息通途助力沟通合作、互利共赢

- B. 沿线国家对中国的贸易和投资政策、中国市场、中企“走出去”等信息很感兴趣
- C. 沿线国家了解经济信息，投资者和规则制定者就能及时准确做出判断并促进合作
- D. 中国海关总署已制定出台多项政策，推动形成全方位、立体化、网络化的互联互通

35. 根据房地产税立法改革总体思路，拟把现有的房产税和城镇土地使用税合并成为新的房地产税，增加房地产保有环节的税负，以房地产的评估值为征税基础。土地增值税、契税等税种暂不纳入房地产税。税改还拟制定对家庭基本需求的免税政策，同时对房地产企业持有的土地和正在开发项目征收房地产税，抑制囤地、闲置土地等行为。税则的\_\_\_\_\_，也有利于增强税收政策在房地产市场的调控效果。

根据本段文字的关键词填入空格，最恰当的一项是：

- A. 明确和修订
- B. 简化和针对性提高
- C. 免税和合并政策
- D. 删减和导向

36. 下列句子有歧义的一项是：

- A. 新一季的玉米种子已经进了田里，等待雨水灌溉而发芽成长
- B. 辛巴人目前主要居住在纳米比亚西北部的库内内地区，距离安拉边境只有一百公里左右，人口不足两万
- C. 昆山市市委书记、市长和其他市领导同志出席了第八届国际发明展的开幕式
- D. 杨柳是乡下及其常见的一种树种，具有强大的生命力，折取一枝纵横倒顺插之，皆能够正常生长

37. 下列句子有语病的一项是：

- A. 近些年来，中国经济快速增长，走出国门看世界已成为一种精神诉求
- B. 奇克拉纳是西班牙南部的一座小镇，位于西班牙著名葡萄酒产地赫雷斯
- C. 近日，一位营养与食品安全专家指出，食品添加剂在国内被“妖魔化”了，真正由食品添加剂引发的食品安全事件从来没有发生过
- D. 即使是《科学》这样国际公认的权威杂志，挑选论文的首要标准也是新颖，论文真正的学术价值仍有待业内检验

38. 德国人在中国人心目中的形象可谓已经超凡脱俗。中文网上流传的各种帖子说：青岛地下水道存在百年前的配件包，而且都用油纸妥善包好；德国人一年只有一半时间工作，依然能够保证强劲的经济实力……而德国自己的报纸《南德意志报》则惊叹“德国在中国被‘神话’了”。报道称，青岛地下水道的完备，德国人对其所做贡献不过3%。“德国制造”确实在当今世界赢得了相当高的美誉度，但其在19世纪的时候，“德国制造”还是一个贬义词，代表廉价与质量差。后来，德国人齐心协力打造“德国制造”的品质，才扭转了在人们心中的印象。

最适合做这段文字标题的是：

- A. 中国，不用妄自菲薄

- B. 钦佩，要适可而止
- C. 德国，一个值得敬佩的国家
- D. 赞赏，当在真实基础之上

39. 《纽约时报》报道称，中国“非著名常见凉菜”——拍黄瓜，今夏风靡纽约。一些国人发出了“中国文化的又一次成功输出”欢呼的同时，也不乏质疑之声。因为据媒体披露，在纽约用来拌黄瓜的调料并非是传统的蒜末、酱油，而是沙拉酱、酸奶。其实，原汁原味的文化输出固然应该有，但往往是小众的，能在短期内迅速打开异文化市场的，注定是那种改头换面的“中国拍黄瓜”，这种既满足好奇心又适应日常习惯的“混搭”产品，常能表现出异乎寻常的流通力，并产生意想不到的文化输出效果。

下列选项与文意不符的是：

- A. 风靡纽约的“中国拍黄瓜”并非原汁原味的中国文化
- B. 用沙拉酱、酸奶拌的黄瓜也属于中国文化
- C. 适应当地习惯的产品往往更容易在短期内打开异文化市场
- D. 中西“混搭”的产品也能起到文化输出的作用

40. 下列各句中，加括号的熟语能被括号中的成语替换且符合句意的一项是：

- A. 长春市有关部门领导表示这次打击地沟油的专项行动必然会(拔出萝卜带出泥)对于违反食品安全法的单位和个人，绝不心慈手软(拖泥带水)
- B. 俗话说，(一个巴掌拍不响)，小王和媳妇闹到离婚这个地步，主要的责任方是小王，但小王的媳妇就没有责任了吗(孤掌难鸣)
- C. 长白山的旅游资源是如此的丰富，但我们(不能捧着金饭碗要饭吃)，我们应该善于利用这些旅游资源，在旅游市场上打响长白山的品牌(坐失良机)
- D. 我不喜欢这样做，也做不好，你凭什么(牛不喝水强按头)(强人所难)

41. “现在走过来的是微信方阵，你看他们，左手手机，右手充电宝，身后背着一锅心灵鸡汤，胸前挂着佛经和养生秘方，手上拿着励志经典和情感小句，口中还在大喊‘亲，给孩子投个票吧’。”这是一个网络段子，但这里说的事每个人都可能“躺枪”，因为我们或多或少都做过，或者是经历过。从最初私密的记录和分享，到现在帮领导点赞、帮单位公号拉粉丝、帮“萌娃”投票。这也是目前绝大多数人的微信朋友圈的状态，在让一些人欲罢不能的同时，也让更多的人疲于应付，身心憔悴。

最适合做这段文字标题的是：

- A. 变味的“朋友圈”已成鸡肋
- B. 变味的“朋友圈”不是我的菜
- C. 微信朋友圈，你还能走多远
- D. 微信朋友圈，只是生活的调味品

42. 国家终于出台政策，强调要保护文物，这是好事。中国的文物，经过革命和建设两大冲击之后，残存的已经不多了。从地表上看，中国已经变得比美国还要年轻，城市有一个算一个，比纽约还要纽约，建筑

都是新的，钢筋水泥加大玻璃，广场街道，霓虹灯，每个城市都一个样。文物有吗？有，都在几个中心城市博物馆里，在私人收藏家手里。然而，那里的东西，已经不是文物，只是脱离了文化背景的商品，就跟纽约大都会博物馆里的中国文物一样，只是观赏和拍卖的价值。

这段文字最想说明的是：

- A . 文物被收藏便不是文物是古玩
- B . 文物的文化价值才是永恒的
- C . 城市建设与文物保护相克相生
- D . 文物流失是中国文物保护之痛

43. 2014年，韩剧《来自星星的你》在中国热播，剧中主人公看的一本书《爱德华的奇妙之旅》竟然卖到脱销。这种因读书镜头而使图书大卖的事情并不是孤例。反观我国的影视剧，出现最多的镜头一定是吃饭和开会。文艺当然是来源于生活的，如果生活中压根儿就没有读书这个选项，非要在剧中表现读书也是难为编创人员了。从这个角度看，影视剧中读书镜头的多少也在一定程度上反映了\_\_\_\_\_。

- A . 影视观众的欣赏偏好
- B . 艺术创作的价值导向
- C . 整个社会的读书风气
- D . 社会公众的文化素养

44. 一位年轻人曾问乔布斯：你的智慧从哪里来？乔布斯回答：来自精确的判断力。年轻人又问：精确的判断力从哪来？乔布斯回答：来自经验的积累。年轻人再问：那你的经验又从哪来？乔布斯真诚地回答：来自无数错误的判断。

与这个故事揭示的道理最不相符的是：

- A . 胜败乃兵家常事
- B . 失败是成功之母
- C . 实践里面出真知
- D . 吃一堑，长一智

45. 研究显示，外貌相关基因多于人体其他部位的相关基因。非常多的基因参与了面部结构、头发、眼睛及肤色这些千变万化的容貌特征的构建。因此，人脸所呈现出来的多样性超乎想象。当然家庭成员要比没有血缘关系的个体更相像，这说明人脸具有明确的遗传特性。但是，基因多样性也是有限的，只有那么多。人们会有这样的经历，在街上将一个陌生人错认成自己认识的某个人。这和你不停地洗牌，直到某个时刻，你手里会出现同样一副牌是一个道理。

这段文字意在说明：

- A . 脸部特征的丰富性源自于基因的多样性
- B . 人类撞脸是由于脸部基因的多样性有限
- C . 脸部的遗传特征性在家庭成员内部更明显

D. 区分个体相貌的能力能使人类得到好处

46. 2015年电影暑期档，青春片一如既往地成为重头戏。青春片的势头走盛很大程度上依赖于电影生产对受众群体的“精准投放”。统计数据显示，2014年中国的核心观影人群中，“大学本科及大专”占比80%，“硕士及以上”占比10%，累计超过90%。正是这批80后和90后，构成了中国最有活力的观影人群。然而，国产青春片的质量水准和它在数量上的“春天”恐怕并不能匹配。除了后续乏力的票房表现以外，青春片口碑也正面临滑坡。无论是从对“青春”现实的理解与表达，还是从剧情内在的情感和逻辑，大多数青春片都表现欠佳。

这段文字意在强调：

- A. 青春片具有很大的市场潜力
- B. 青春片品质未满足市场需求
- C. 青春片有走向颓势的可能性
- D. 青春片观影者以大学生为主

47. 近来，随着一批高替代性的“情感机器人”面世，做出简单的情感互动已经不再是制造情感机器人的最大挑战。空巢老人、自闭儿童和病患等社会问题的呈现使越来越多的商家看好“互动型”“陪伴型”机器人的未来市场。但是，独居老人无人陪伴，孩子在家无人照料，用机器人陪伴的方式解决而不是增加对人的关怀和陪伴，就像科学家为保护医生而研制“防砍制服”，从短期来看似乎是个令人振奋的好方法，但由此可能引发人们的情感错位、社会问题被加倍漠视以及机器人进一步类人而导致的伦理问题都需要提前考量。

作者对情感机器人的态度是：

- A. 很理解客户对情感机器人的需求
- B. 关注情感机器人的“陪伴”功能
- C. 赞赏不断突破难题的机器人技术
- D. 质疑靠情感机器人解决社会问题

48. 北京何来？王光镐在其新著《北京——人类文明点圣殿》中，以一位老考古人的睿智，为我们细细讲述了北京的地脉、人脉、城脉、文脉及气脉诸类，分述北京的地理特征，北京史前的悠久年代，文明早期的持续发展，帝都从无到有的递进拓展，民族多元一统格局的形成，以及承续传统的信仰体系。

这段文字是一篇文章的引言，文章接下来最可能讲述的是：

- A. 北京文脉的多元融合
- B. 北京人脉的古老悠远
- C. 北京地脉的特别之处
- D. 北京城脉的底蕴深厚

49. 教育部近日印发《中小学艺术素质测评办法（试行）》等3个文件。其中明确，学生艺术素质测评指标体系由基础指标、学业指标和发展指标三部分构成，其中，基础指标是中小学在校内应参加的课程活动，而“课外活动”，一不包括学生接受的家庭艺术教育，二不包括学生参加的社会艺术培训机构或个体培训者

所组织的艺术培训。

由此推断，下面不能作为“艺术素质测评”一句的一项是：

- A . 二年级的小花同学在社区的“军民共建”文艺演出中表演舞蹈
- B . 媛媛从小受家庭熏陶热爱唱歌，八年级时获得了“童星艺术学校”比赛“金奖”
- C . 五年级的丽丽在市里的“民间艺术博览会”上现场为中外客人展示剪纸艺术
- D . 志强的学校组织他们集体参观省博物馆的“著名书画艺术展”

50. ①提起“小清新”，或许很多人不屑

②“人生一场小清新，此生不改是天真。”

③天真，含义有褒有贬。既有纯真、简单之意，也有幼稚、不成熟之意。

④这位“网络红人”却难能可贵地在“小清新”中，发现了它最可爱又可贵的内核——天真。

⑤天真是好是坏？是多一点好还是少一点好？在不同的语境中答案当然不同。但在当前，窃以为这种品质不是太泛滥，而是太稀缺。

⑥这是不久前一位“网络红人”与网友互动时，在微博上写下的一句俏皮的“禅语”。

下列语序排列正确的是：

- A . ①⑥②④⑤③
- B . ⑥④①⑤③②
- C . ②⑥①④③⑤
- D . ③⑤②⑥①④

51. 我们之所以会持久的爱上一个人，本质上是因为“心理可见性原则”。就像一面镜子一样，如果你的灵魂真正的被一个人看见，你就会爱上这个人。当我发现，如果别人看我们的眼光跟我们内心深处最真实的对自己的看法是一致的，并且他们通过他们对我们的言行，表现出我们的这种理解，我们就会有一种深深的被“看见”的感觉。

下列说法中，最符合“心理可见性原则”的是：

- A . 在爱你过程中，我遇到了自己
- B . 对我来说，你的爱情是种负担
- C . 因为爱情，我已然迷失了自己
- D . 你看见我，让我发现新的自己

52. 一朋友说，老娘84岁了，一人在老家，愈来愈为老娘一人孤居而不安。想将老娘接来，又担心恰逢“七十三、八十四”这一关口（中国传统思想及文化中有寿命之坎儿一说），再一换新环境，不适应，万一出事。同时担心老娘因琢磨这个“七十三、八十四”而有心理压力。另一位朋友出招：当初自己老娘84岁时也是瞎琢磨，时常念叨。他就骗老娘说，“七十三、八十四”是孔子、孟子去世的年龄，他们都是男人，这实际上就是与女人无关，女人没有生命坎。他一说，家人都迎合，老母亲也就真信了，结果活到了93岁。

可从这段文字得出的结论是：

- A . 人的健康与性别密切相关
- B . 老年人群是迷信的重灾区
- C . 迷信侵蚀国人的心理健康
- D . 健康状况与情绪呈正相关

53. 我曾目睹一位朋友在网上购书，久久徘徊在五六本之间无法拿定主意（我保证不是经济困窘）。她头头是道地分析了每本书的优劣，细化到“如果我买了这本，好处是什么，遗憾是什么”，等到全部讲完之后，手一摊，撇着嘴问我，“我到底买不买了？”

作者要用购书的例子说明：

- A . 凡事预则立，不预则废
- B . 过度思考是行为的绊脚石
- C . 思想付诸行动才有价值
- D . 不必凡事三思而后行

54. 一声“干妈”不到两千块的床垫卖到一万三千八，如此畅销，老太太还照样心疼“干闺女”，为她打掩护、做辩解。就赖老人糊涂吗？不尽然。推销者卖的就是床垫吗？不全是。公司一句口号暴露玄机：“代天下儿女尽孝。”说是“代尽孝”，其实在骗钱，这样的公司涉嫌欺诈。然而，老年人情感上的需求却是真的。不讳言地说，老年人心灵上的这篇空洞，就是骗子屡屡得逞的命门。有的老人识不破，有的则是有些明白了，却仍迷恋这种虚幻的亲近感，不愿意从梦里头醒过来，而这愈显悲哀。

与原文主旨不相符的一项是：

- A . 新养老真正需要心养老
- B . 儿女忙老人孤寂难排解
- C . 亲闺女可别败给干闺女
- D . 补上心洞才能百邪不侵

55. 谁都希望自己一生平安顺利，但挫折、困难、逆境往往在所难免。当今社会，资源更稀缺，竞争更激烈，人们遭遇挫折和逆境的可能性也在加大。在这一背景下，有人提出“逆商”概念。所谓“逆商”，是指摆脱挫折、克服困难、走出困境的能力。因为一个人事业成功、生活幸福，不仅需要智商、情商，还需要“逆商”，以更好的摆脱挫折，克服困难，走出困境。

下列古代名句中，不能直接说明原文主旨的一项是：

- A . 天行健，君子以自强不息
- B . 不畏浮云遮望眼，只缘身在最高层
- C . 宝剑锋从磨砺出，梅花香自苦寒来
- D . 天生我材必有用，千金散尽还复来

数量关系

请根据题目要求，在每个选项中选出一个最恰当的答案。

56. 120, 80, 48, 24, ( ), 0

- A . 4
- B . 6
- C . 8
- D . 10

57. 5, 6, 19, 33, ( ), 101

- A . 55
- B . 60
- C . 65
- D . 70

58. 1, 11, 112, 1112, 11123, ( ), 1111234

- A . 11112
- B . 11113
- C . 111123
- D . 111124

59.  $\frac{1}{\sqrt{2}+\sqrt{1}} + \frac{1}{\sqrt{3}+\sqrt{2}} + \frac{1}{\sqrt{4}+\sqrt{3}} + \dots + \frac{1}{\sqrt{16}+\sqrt{15}}$ 的值是：

- A .  $\sqrt{2}$
- B . 2
- C .  $\sqrt{8}$
- D . 3

60. 田径世锦赛男子4×100米接力，每队可报6名选手参赛，唯一一个起跑最快的跑第一棒，第四棒可有2个人选，则可排出的组合数有：

- A . 6
- B . 12
- C . 24
- D . 48

61. 某商场搞促销活动，消费100元送20元代金券，再买东西可顶20元，某顾客先花100元买了一件衬衫，再用代金券及现金买了同样的衬衫，则顾客得到的优惠率为：

- A . 9.5折
- B . 9折
- C . 8.5折



D . 8折

62. 王老师在课堂上出了一道加法算式题，张明把个位上的4看成了9，把十位上的8看成了3，结果错算为118，那么正确答案是：

A . 163

B . 150

C . 108

D . 90

63. 在某十字路口处，一辆汽车的行驶方向有3个：直行、左转弯、右转弯，且三种可能性大小相同，则有3辆独立行驶的汽车经过该十字路口全部右转弯的概率是：

A .  $\frac{1}{3}$

B .  $\frac{1}{6}$

C .  $\frac{1}{9}$

D .  $\frac{1}{27}$

64. 某人想要通过掷骰子的方法做一个决定，她同时掷3颗完全相同且均匀的骰子，如果向上的点数之和为4，他就做此决定，那么，他能做这个决定的概率是：

A .  $\frac{1}{36}$

B .  $\frac{1}{64}$

C .  $\frac{1}{72}$

D .  $\frac{1}{81}$

65. 某加工厂要将一个表面积为384平方厘米的正方体金属原材料切割成体积为8立方厘米的小正方体半成品，如果不计损失，这样的小正方体可以加工的个数为：

A . 64

B . 36

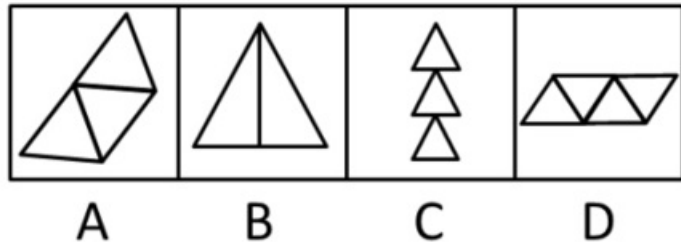
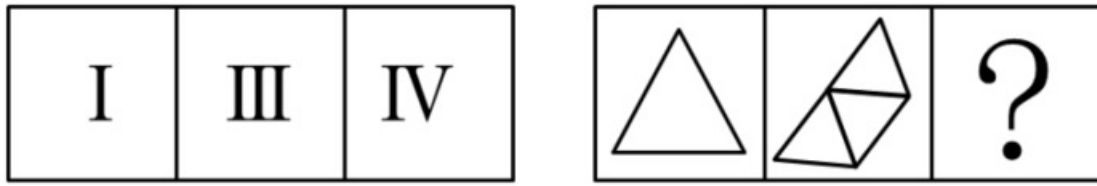
C . 27

D . 16

### 判断推理

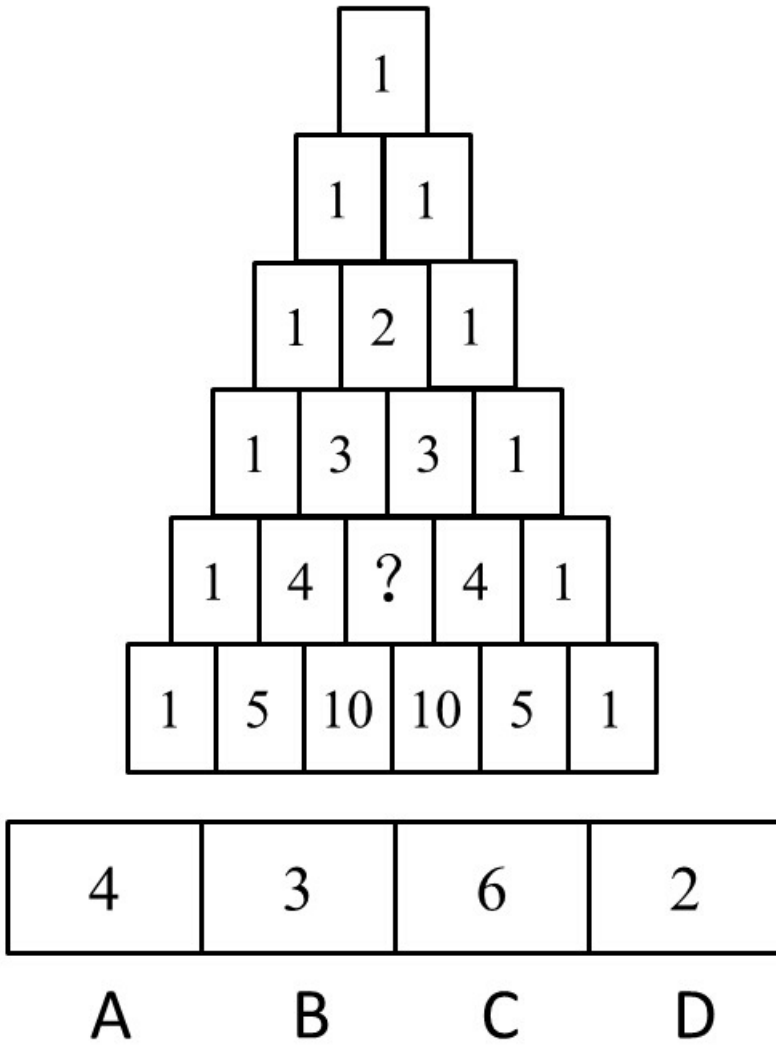
请根据题目要求，在每个选项中选出一个最恰当的答案。

66. 从所给四个选项中，选择最合适的一个填入问号处，使之呈现一定的规律性：



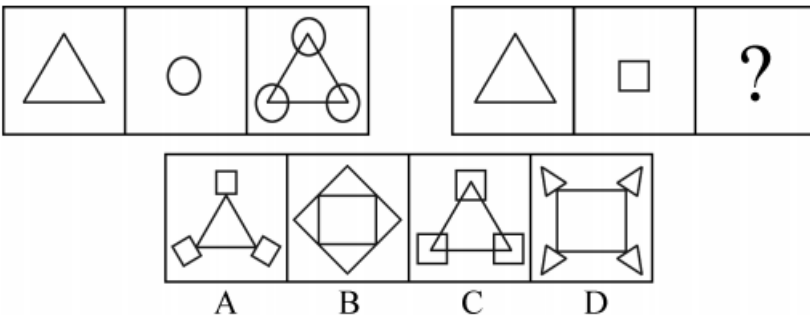
- A . A
- B . B
- C . C
- D . D

67. 从所给四个选项中，选择最合适的一个填入问号处，使之呈现一定的规律性：



- A . A
- B . B
- C . C
- D . D

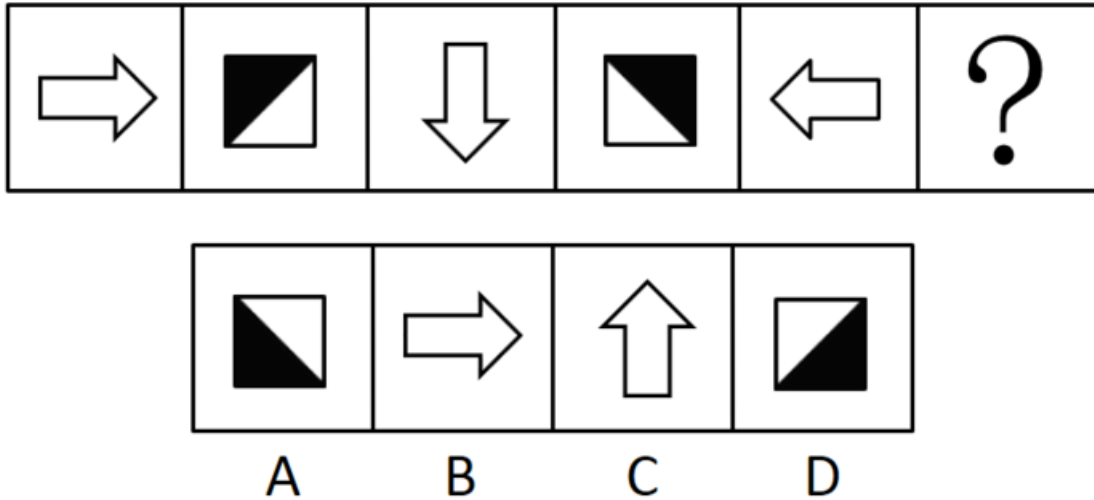
68. 从所给的四个选项中，选择最合适的一个填入问号处，使之呈现一定的规律性：



- A . A
- B . B

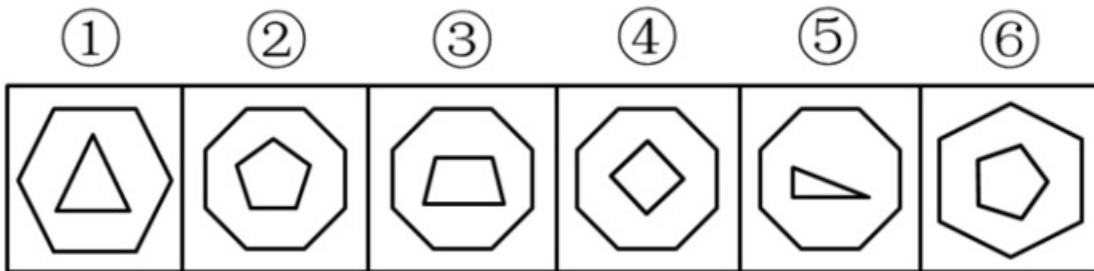
- C . C
- D . D

69. 从所给的四个选项中，选择最合适的一个填入问号处，使之呈现一定的规律性：



- A . A
- B . B
- C . C
- D . D

70. 把下面的六个图形分成两类，使每一类图形都有各自的共同特征或规律，分类正确的一项是：



- A . ①③⑤ ②④⑥
- B . ①③④ ②⑤⑥
- C . ①②④ ③⑤⑥
- D . ①④⑤ ②③⑥

71. 防御商标，是指知名商标的所有人在该注册商标核定使用的商品（服务）或类似商品（服务）以外的其他不同类别的商品或服务上注册的若干相同商标，为防止他人在这些类别的商品或服务上注册使用相同的商标，原商标为主商标，其余为防御商标。通过注册防御商标，商标所有人可以防止他人借用知名商标品牌的影响力“搭便车”，获取不正当竞争的利益。

根据上述定义，下列各项中的商标所有人可以通过注册防御商标的方式保护相关权利的是：

- A . 某演艺公司旗下的艺人里奇是国内知名的实力派演员，近期某药业公司注册了“里奇”商标，作为其生

产的药品和医疗器械的商标来使用

B. 某运动品生产企业拥有“SKALA69”知名商标，近期发现有厂商在其生产的篮球鞋上使用“SKALA96”商标，以冒充该企业的产品进行销售

C. 某日用品生产企业拥有“丝净”知名商标，用于其生产的洗手液、洗发水等产品，近期发现有厂商也在其生产的日化品中使用“丝净”商标

D. 某网络公司拥有“度度”著名商标，近期某餐饮公司注册“度度烤肉”商标开设多家烤肉店，令许多消费者误以为是该网络公司在多元化经营

72. 非黑即白是一种逻辑错误，指在两个极端之间，不恰当地二者择一。非黑即白式的思考，无视中间体存在，把选择范围仅限于黑白两个极端，不恰当地要求在二者中择一。

以下哪个选项符合非黑即白：

A. 大家都说张三很爱你，所以他一定是很爱你的

B. 张三不是一个成年人，所以他一定是未成年人

C. 张三不是个工作狂，所以他一定是一个懒汉

D. 张三是个黑皮肤的人，所以他一定不是黄种人

73. 或有负债，是指过去的交易或事项形成的潜在义务，在一定情况下极有可能发展为由本企业承担，而迄今尚未完全确定，是需要通过将来不确定的事项的发生或不发生予以证实的负债。

根据定义，企业可能产生或有负债的是：

A. 准备接收即将获得的侵权赔偿金

B. 为已出售的商品提供质量保证书

C. 为即将签订的合同约定洽谈日期

D. 准备支付事先约定的合同违约金

74. 期界问题，是指在现代企业中由于雇佣关系很短，导致职工的种种短视行为，以及此类行为对企业造成的危害，

下列属于期界问题的是：

A. 因为还有一年就退休了，老赵感觉力不从心，工作效率也越来越差。

B. 因为不熟悉业务，刚来一个月的小李弄丢了一个大客户，公司损失巨大。

C. 因为觉得转正渺茫，在试用期的小王每天努力工作表现自己。

D. 因为只签订半年的合同，小孙使用工作机器设备时不管不顾。

75. 趋同适应，是指亲缘关系相当疏远的不同种类的生物，由于长期生活在相同或相似的环境中，接受同样生态环境选择，只有能适应环境的类型才得以保存下去。趋异适应，是指同种生物如长期生活在不同条件下，为了适应所在的环境，会在外形、习性和生理特征方面表现出明显差别。

根据上述定义，下列属于趋同适应的是：

A. 蓖麻在我国北方是一年生的草本植物，而在南方却是呈树状的多年生植物

B. 草食性鱼类的粪便可促进蜉蝣生物的繁殖，鲢鱼、鳙鱼等滤食性鱼类可使水质变清，有利于草食性鱼类的生活

C. 北极熊由棕熊进化而来，皮衣为白色，与北极的环境颜色相同，有利于捕食，肩部呈流线型，足撑有刚毛，可使其在冰上行走而不滑倒

D. 哺乳类的鲸、海豚、海象、海豹，鱼类的鲨鱼，它们都在亲缘关系上相距甚远，但都长期生活在海洋中，整个身体成为适应于游泳的纺锤形

76. 热爱：五星红旗

A. 读过：莎士比亚

B. 学过：法律逻辑

C. 游览：北京故宫

D. 喜欢：名胜古迹

77. 胎生动物：蝴蝶

A. 男教师：女青年

B. 实数：正数

C. 哺乳动物：鸭嘴兽

D. 文科：化学

78. 麦芽：啤酒

A. 白菜：酸菜

B. 毛线：羊毛

C. 煤炭：植物

D. 酶：催化剂

79. 地中海：陆间海

A. 地黄：怀庆地黄

B. 定音鼓：乐器

C. 电缆：导电线芯

D. 礼器：青铜鼎

80. 汽车：底盘：发动机

A. 车：轿车：货车

B. 车身：车门：车窗

C. 车灯：车牌：轮胎

D. 汽车：箱型：船型

81. 构思：写作：修改

- A . 上车 : 驾驶 : 下车  
 B . 请客 : 赴约 : 回家  
 C . 生病 : 住院 : 打针  
 D . 洗菜 : 切菜 : 炒菜
82. 孩子 : 明珠 : 女儿  
 A . 护士 : 天使 : 医生  
 B . 少年 : 花朵 : 儿童  
 C . 卧室 : 港湾 : 家  
 D . 师长 : 春蚕 : 教师
83. 夏至 对于 ( ) 相当于 ( ) 对于 古筝  
 A . 节气 乐器  
 B . 6月22日 高山流水  
 C . 冬至 钢琴  
 D . 立夏 梧桐木
84. 木牛流马 对于 ( ) 相当于 ( ) 对于 番茄  
 A . 诸葛亮 厄瓜多尔  
 B . 交通工具 草本植物  
 C . 舟车船辇 维生素  
 D . 运输工具 樱桃番茄
85. ( ) 对于 风筝 相当于 芝麻 对于 ( )  
 A . 纸鸢 脂麻  
 B . 串式风筝 芝麻油  
 C . 竹篾 白芝麻  
 D . 骨架 草本植物
86. 最近, 研究人员调查了2657名60岁左右的人, 结果发现, 每天的钠摄入量超过4克的高钠饮食组 ( 合10克食盐 ), 与每天钠摄入量小于1.5克的低钠饮食组 ( 合4克食盐 ) 的人相比, 高钠饮食组患高血压的风险明显高于低钠饮食组, 而且, 每天钠摄入量每增加0.5克 ( 合1.3克食盐 ), 高血压的风险就增加17%。研究人员因此得出结论, 食盐摄入量高会增加患高血压的风险。  
 以下哪项如果为真, 最能支持上述论证 :  
 A . 研究发现, 食盐摄入量过高还会引起慢性肾病、高血脂等疾病  
 B . 高血压的发病往往与环境、遗传、心理、膳食等多种因素相关  
 C . 食盐摄入量过低并不会给身体的健康带来任何风险  
 D . 高钠饮食组在减少食盐摄入之后, 血压会明显降低

87. 尽管在大多数看来，地震并非人力所能影响或控制，但是最新的一项研究成果却显示，人类排放温室气体的行为是导致地震频发的原因。对此，有反对者指出，地震是由气候变化引起的，气候变化可能会引起地球板块运动，从而刺激地震的发生。但研究人员也强调，虽然板块运动可能会导致地震出现，但这是一个非常漫长的过程，而非突发性的事件。

以下哪项如果为真，最能削弱反对者的观点：

- A . 之前科学界公认，地震引发的地壳运动会对气候的变化带来影响
- B . 研究结果显示，人类排放温室气体的行为是导致气候变化的原因
- C . 印度洋季风使得印度洋板块活动加速大约，每年多移动约1厘米的距离
- D . 目前全球气候变暖是否会导致更大规模地震的发生，还未得到相关证据证实

88. 可能有人认为越昂贵或者越新的车辆被盗的可能性越大，事实上刚好相反，对于那些经验老道的偷车贼来说，保有量大的旧车才是他们的首选。相比之下，新车和豪华车出手的难度要远远大于旧车，同时也更容易引起警方的关注。此外，特别便宜跟特别贵的车一般都不在小偷的视野范围之内，便宜的车虽然只用改锥及铁丝之类的工具。就可以轻而易举地利用车门缝隙挑起门锁打开车门，但残值也低。而50万元以上的豪华车，保全措施也做的特别到位，偷起来特别麻烦，通常都安放在有监视系统的车库里。再者，一些造型较独特的、零配件通用率低的车型相对而言会比较安全。

根据上述信息，下列车型中最容易被盗的是：

- A . 价值16万元的有三年车龄的迈腾
- B . 价值2万元的有8年车龄的奇瑞QQ
- C . 价值55万元有7年车龄的宝马车
- D . 价值18万元有1年车龄的敞篷车

89. 司马光出身贫寒；明代龙图大学士宋濂家中一贫如洗；苏联伟大作家高尔基曾经是个流浪儿……可见贫困也是一笔财富。

下列选项与题干中所使用的论证方法最相似的是：

- A . 基本功对拿笔杆子的人很重要，不练是不行的。俗话说，拳不离手，曲不离口
- B . 绘画的人常画，唱歌的人常唱，而搞文字的人怎么可以几个月不写东西呢
- C . 左丘失明，阙有《国语》；孙子膑脚，兵法修列；不韦迁蜀，世传《吕览》；韩非囚秦，《说难》、《孤愤》；《诗》三百篇，大抵圣贤发愤之所为作也
- D . 盖文王拘而演《周易》；仲尼厄而作《春秋》；屈原放逐，乃赋《离骚》……由此可见，没有苦痛的挣扎，便不会有成功的喜悦

90. 一次，拿破仑对他的秘书说：“布里昂，你也将永垂不朽了。”布里昂迷惑不解，拿破仑提示到：“你不是我的秘书吗？”布里昂明白了他的意思，微微一笑，从容不迫的反问他：“那么请问，亚历山大的秘书是谁？”拿破仑答不上来，便高声喝彩：“问得好！”

对于布里昂的回答，下列评价最恰当的是：



- A . 针对对方提出的类比，转换一个角度，同样运用这两类事物进行类比推出完全不同的结论
- B . 运用真实可感的具体事例，通过事物间的微妙联系进行推理，使辩驳更具体直观，更形象生动
- C . 故意取两个在一系列属性上风马牛不相及的对象来进行比较以此来推论和驳斥对方的观点
- D . 不直接将两类事物进行对比，而是仅就其中一类事物进行说明，真正的结论留给对方去领悟

91. 美国大律师赫梅尔，在一件赔偿案中代表某保险公司出庭辩护。原告声称他的肩膀被摔下来的升降机轴打伤，至今右臂仍抬不起来。“请给陪审员们看看，你的右臂现在能举多高？”赫梅尔说道。原告慢慢地将手臂举到齐耳的高度，并表现出非常吃力的样子，以示不能再举得更高了。“那么，你在受伤前能举多高呢？”赫梅尔话音刚落，原告不由自主地一下将手臂举过了头顶，引起全庭哄堂大笑。

原告所犯的逻辑错误是：

- A . 因果倒置
- B . 机械类比
- C . 模棱两可
- D . 自相矛盾

92. 几个人讨论马。甲说：“我见过一匹10000斤重的马。”乙说：“我见过一匹10厘米长的马。”丙说：“你们是开玩笑吧，哪里有重达万斤的马？更不会有10厘米长的马！”甲回答道：“我说的是河马！”乙回答道：“我说的是海马。”

对于甲乙的回答，下列评价最恰当的是：

- A . 运用科学权威的个案来破除人们对流行看法的盲从
- B . 试图基于小概率事件来反驳一个公认的一般性结论
- C . 通过偷换概念、跳出领域的方式来论证自己的观点
- D . 举例指出所有反驳的观点会引申出自相矛盾的结论

93. 手术进行期间让患者听音乐，有助于降低患者的焦虑感与止痛药使用量，研究人员检视覆盖7000名患者的70个临床试验后发现，患者听音乐后，术后焦虑程度大幅降低，满意程度上升，疼痛指数较低，所需的止痛药也较少。

以下哪项如果为真，最能质疑上述结论：

- A . 由患者自行选择音乐的情况下，效果可能更好一点
- B . 患者在手术前听音乐比手术期间听音乐的效果更好一些
- C . 手术进行期间让患者听音乐会干扰手术团队的沟通
- D . 研究结果适用于几乎所有类型手术，但脑部手术除外

94. 某电视台拍摄一档真人秀节目，有A、B、C、D、E五位表演嘉宾，要安排他们入住红、黄、蓝三顶帐篷。五位表演嘉宾提出了以下几点入住要求：

- (1) 嘉宾A要入住红色帐篷
- (2) B和C要入住同一顶帐篷

(3) 如果D入住蓝色帐篷, 则E也要入住蓝色帐篷

(4) 同时, 栏目组要求, 每顶帐篷中都要住人

则下列安排肯定不符合上述要求的是:

- A. BC入住红色帐篷
- B. BD入住蓝色帐篷
- C. DE入住黄色帐篷
- D. E入住红色帐篷

95. 如果天气晴朗, 我们就举办拔河比赛

如果风很大, 我们就不举办拔河比赛;

如果不举办拔河比赛, 就举办演讲比赛;

假定上面的陈述属实, 实际情况我们正举办拔河比赛, 则下面哪项必定为真?

- I. 天气晴朗
  - II. 风不大
  - III. 不举办演讲比赛
- A. 仅I
  - B. 仅II
  - C. 仅I, III
  - D. I, II, III

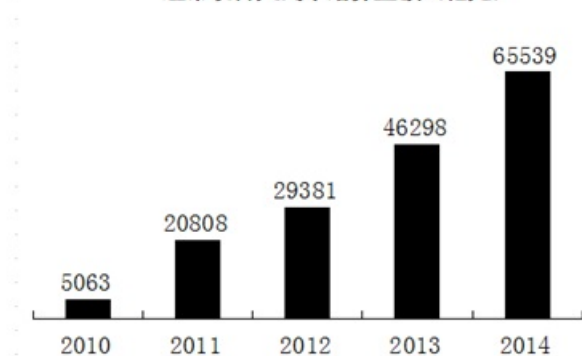
### 资料分析

请根据题目要求, 在每个选项中选出一个最恰当的答案。

2014年, 人民币国际使用继续较快发展, 人民币跨境收支占本外币跨境收支的比重上升至23.6%, 离岸人民币市场进一步拓展, 人民币国际合作不断深化。据环球银行金融电信协会 (SWIFT) 统计, 2014年12月, 人民币成为全球第2大贸易融资货币、第5大支付货币、第6大外汇交易货币。

2014年, 经常项目人民币结算金额6.55万亿元, 同比增长41.6%。对外直接投资 (ODI) 人民币结算金额1865.6亿元, 同比增长117.9%; 外商来华直接投资 (FDI) 人民币结算金额8620.2亿元, 同比增长92.4%。

经常项目人民币结算金额（亿元）



2014年分地区经常项目人民币结算情况

地区	货物贸易		服务贸易及其他经常项目（亿元）	合计（亿元）	占比（%）
	出口（亿元）	进口（亿元）			
广东	7368.0	8704.4	1448.9	17521.3	26.7
上海	3202.3	5065.3	1881.7	10149.3	15.5
浙江	3795.3	3453.0	190.2	7438.5	11.4
北京	885.8	4534.7	1314.4	6734.9	10.3
山东	1577.8	3904.8	188.5	5671.1	8.6
江苏	1871.0	1818.4	451.6	4141.0	6.3
天津	664.9	899.1	230.9	1794.9	2.7
广西	890.0	531.3	14.1	1435.4	2.2
福建	614.6	617.1	77.3	1309.0	2.0
其他地区	4300.6	4274.8	767.7	9343.1	14.3
合计	25170.5	33803.0	6565.2	65538.7	100.0

96. 上海与江苏相比，2014年经常项目人民币结算金额占比相差：

- A . 11.2个百分点
- B . 9.2个百分点
- C . 8.2个百分点
- D . 6.2个百分点

97. 2014年，京津沪经常项目人民币结算金额占比达到：

- A . 13%
- B . 15.5%
- C . 23.5%
- D . 28.5%

98. 2010年和2011年相比，我国经常项目人民币结算金额大约：

- A . 翻了一番
- B . 增长二倍
- C . 翻了两番
- D . 增长四倍

99. 2010年~2014年间，我国经常项目人民币结算金额增长速度最快的是：

- A . 2011年
- B . 2012年
- C . 2013年
- D . 2014年

100. 下列说法错误的是：

- A . 资料显示，2014年12月，人民币成为全球第2大贸易融资货币
- B . 2010年-2014年间，我国经常项目人民币结算金额增速超过50%的年份有2011年和2013年
- C . 2014年我国经常项目人民币结算金额中，出口贸易占比最大
- D . 2014年我国人民币国际使用继续较快发展，人民币合作不断深化

《大气污染防治行动计划》践行一年以来，京津冀地区治“霾”战果如何？数据显示，2014年，京津冀区域13个城市空气质量平均达标天数为156天，与2013年相比平均达标天数比例上升5.3个百分点。2014年，北京市达标天数比例为47.1%，与2013年相比下降1.1个百分点，PM2.5年均浓度与2013年相比下降4.0%。从PM2.5来源解析最新研究成果看，北京全年PM2.5主要来源于本地污染排放（占64%~72%），其中，机动车排放占比达31%成为主导因素。

2014年，河北省城市空气优良天数平均为152天，同比增加23天。全省PM2.5平均浓度同比下降12%。当年河北省完成大气减排项目2151个，压减炼铁产能1500万吨、炼钢产能1500万吨、水泥产能3918万吨、平板玻璃产能2533.5万重量箱。煤炭消费总量减少1500万吨，首次实现负增长。此外，河北省淘汰黄标车和老旧机动车81.24万辆，超额完成国家下达任务。

2014年，天津市达标天数为175天，同比增加30天，全年PM2.5浓度下降13.5%。从PM2.5、PM10来源解析最新研究成果看，天津市全年PM2.5、PM10主要来源于本地污染排放（分别占66%~78%和85%~90%），其中，扬尘为首要因素（占比分别为30%和42%），其次是燃煤（占比分别为27%和23%）和机动车（占比分别为20%和14%）。

2014年京津冀六项主要污染物年平均浓度值

地区	六项主要污染物(微克/立方米,CO单位是毫克/立方米)					
	PM2.5	SO <sub>2</sub>	NO <sub>2</sub>	PM10	CO	O <sub>3</sub>
北京市	85.9	21.8	56.7	115.8	3.2	197.2
天津市	95	55	48	165	3.6	159
河北省	83	49	54	133	2.9	157

101. 资料显示，2013年河北省城市空气优良天数平均为：

- A . 152天
- B . 23天
- C . 129天

D . 175天

102.2014年，京津冀全年PM2.5浓度降幅最大的是：

- A . 北京市
- B . 天津市
- C . 河北省
- D . 京津地区

103.资料显示，天津市治霾首要任务是：

- A . 除尘
- B . 减少燃煤
- C . 治理黄标车
- D . 治理老旧机动车

104.2014年天津市与北京市相比，NO2年平均浓度值：

- A . 前者高于后者84.7%
- B . 前者低于后者84.7%
- C . 前者高于后者15.3%
- D . 前者低于后者15.3%

105.根据材料，以下说法中正确的是：

- A . 2014年，京津冀地区中北京市环境空气质量达标天数最多
- B . 2014年河北省水泥产能首次出现负增长
- C . 从PM2.5来源解析看，未来北京市治理机动车污染排放任务紧迫
- D . 2014年京津冀地区雾霾形成主要来源于外地污染排放



如何对答案：打开公考通app  
进入历年真题，录入答案后即可评分并查看解析。